

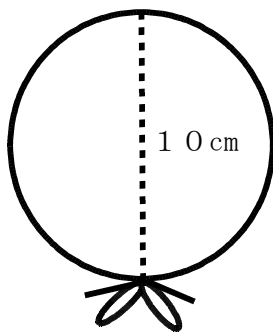


霧島市「今週の1問」
小5算数 2月8日版
鹿児島Web問題から


名前

ゆうまくんは、友達のとん生日に、おもちゃ入りの缶づめをいくつかプレゼントしようと考えました。缶づめは、真上から見ると全て直径が10cmの円の形をしていて、リボンをまいてプレゼントしようと思います。なお、むすび目を作るために、リボンは10cm必要です。

次の(1)～(2)の問いに答えましょう。



【図1】



【図2】

- (1) 【図1】のように、缶づめ1個をリボンで一まきします。むすび目も合わせると、リボンは全部で何cm必要ですか。

式

答え

- (2) 【図2】のように、缶づめ2個をリボンで一まきします。むすび目も合わせると、リボンは全部で何cm必要ですか。

式

答え



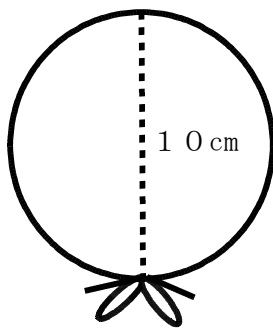
霧島市「今週の1問」
小5算数 2月8日版
鹿児島Web問題から

解

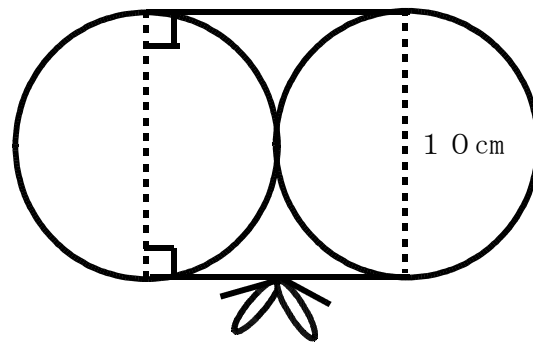
答

ゆうまくんは、友達のとん生日に、おもちゃ入りの缶づめをいくつかプレゼントしようと考えました。缶づめは、真上から見ると全て直径が10cmの円の形をしていて、リボンをまいてプレゼントしようと思います。なお、むすび目を作るために、リボンは10cm必要です。

次の(1)～(2)の問いに答えましょう。



【図1】



【図2】

- (1) 【図1】のように、缶づめ1個をリボンで一まきします。むすび目も合わせると、リボンは全部で何cm必要ですか。

式 $10 \times 3.14 + 10 = 41.4$

答え 41.4 cm

- (2) 【図2】のように、缶づめ2個をリボンで一まきします。むすび目も合わせると、リボンは全部で何cm必要ですか。

式 $10 \times 3.14 + 10 \times 2 + 10 = 61.4$

答え 61.4 cm