



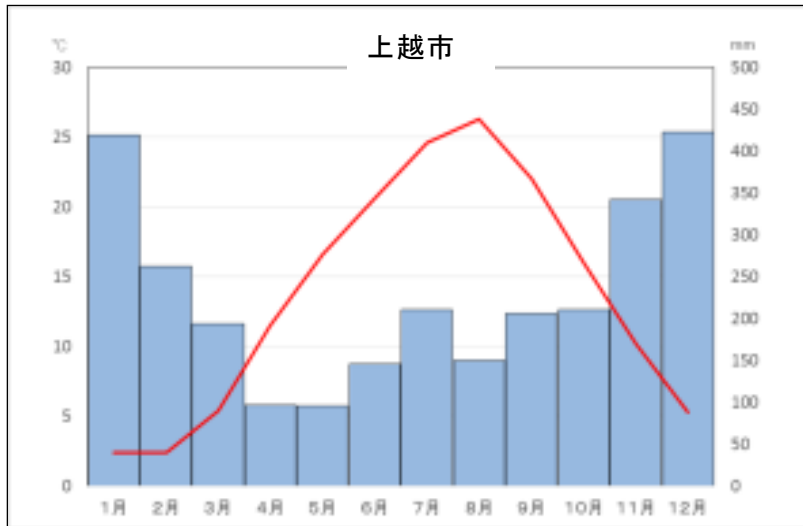
霧島市「今週の1問」
小6社会 4月20日版
進路・夢実現に向けて、この1問をクリア
しよう！

名前

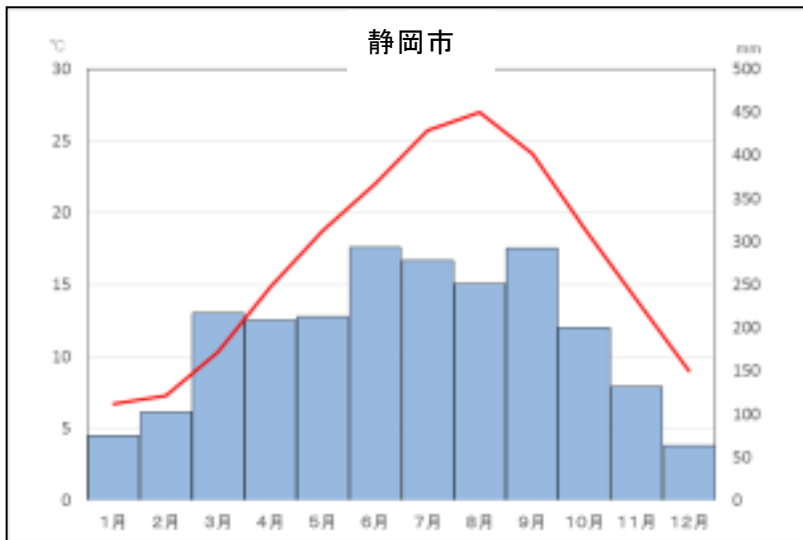
(鹿児島学力向上 Web システムから)

- 1 資料1・2は、日本海側の新潟県上越市と太平洋側の静岡県静岡市の月別平均気温と降水量を示したグラフです。2つの地域を比べて、気候についてどんなちがひがありますか、また、なぜそのようなちがひが見られるのですか。その説明を の中に書きましょう。

(資料1)



(資料2)





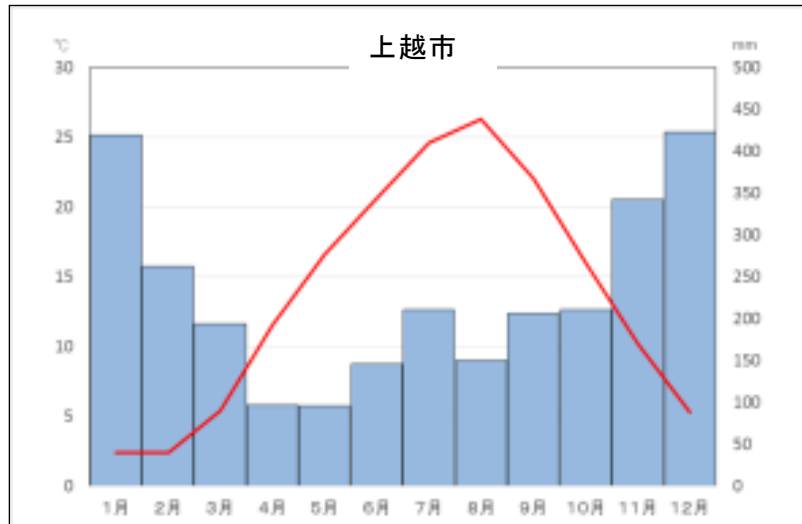
霧島市「今週の1問」
小6社会 4月20日版
進路・夢実現に向けて、この1問をクリア
しよう！

解 答

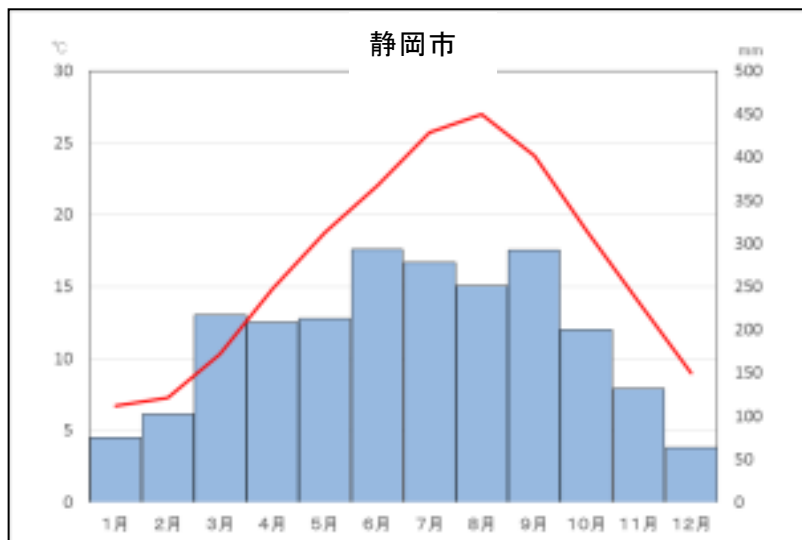
(鹿児島学力向上 Web システムから)

- 1 資料1・2は、日本海側の新潟県上越市と太平洋側の静岡県静岡市の月別平均気温と降水量を示したグラフです。2つの地域を比べて、気候についてどんなちがいがありますか、また、なぜそのようなちがいが見られるのですか。その説明を の中に書きましょう。

(資料1)



(資料2)



(例) 上越市と静岡市では季節によって降水量にちがいが見られる。理由は、季節風が冬は日本海側から吹き、山地にぶつかって雪などを降らせ、上越市などの日本海側の降水量が多くなり、夏は逆に太平洋側から吹くので、静岡市などの太平洋側の降水量が多くなるからである。