



霧島市「今週の1問」
小6社会 5月25日版
進路・夢実現に向けて、この1問をクリア
しよう！

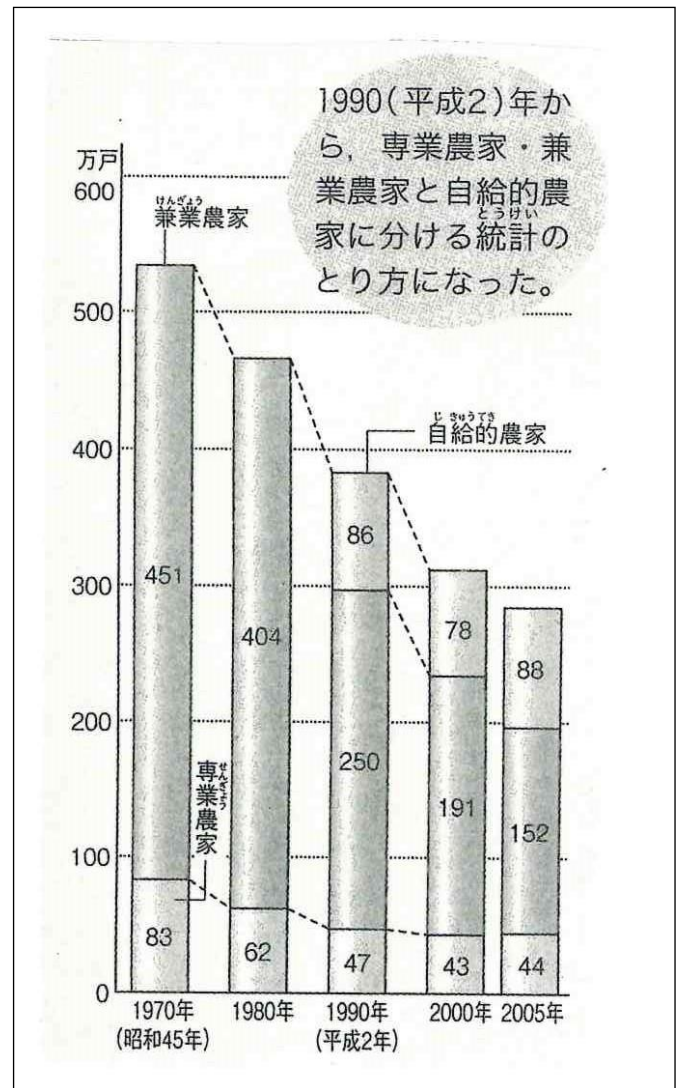
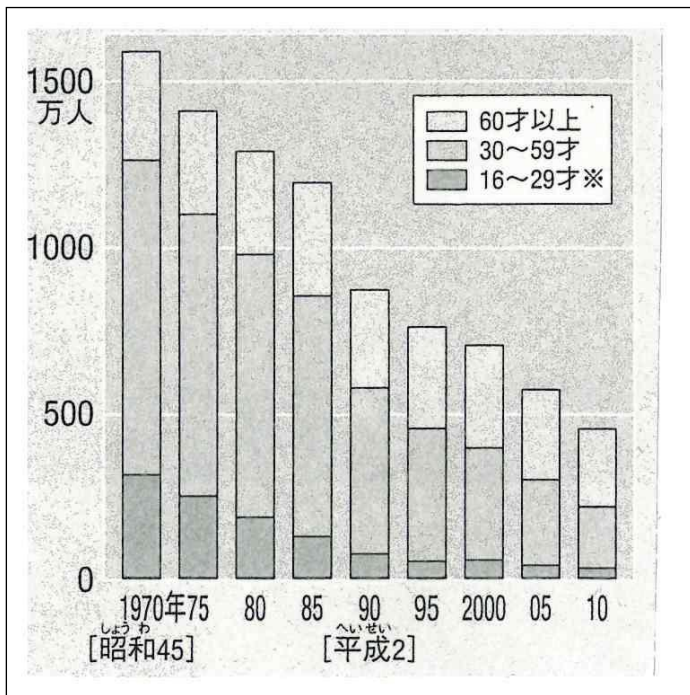
名前

(鹿児島学力向上 Web システムから)

1 資料1・2から、1970年ころと比べると、現在の日本の農業には、どのような問題があることがわかりますか。その説明を□の中に「1970年と比べると」の書き出しで書きましょう。

(資料1) 農業で働く人数の変化

(資料2) 農家数の移り変わり



1970年ころと比べると、



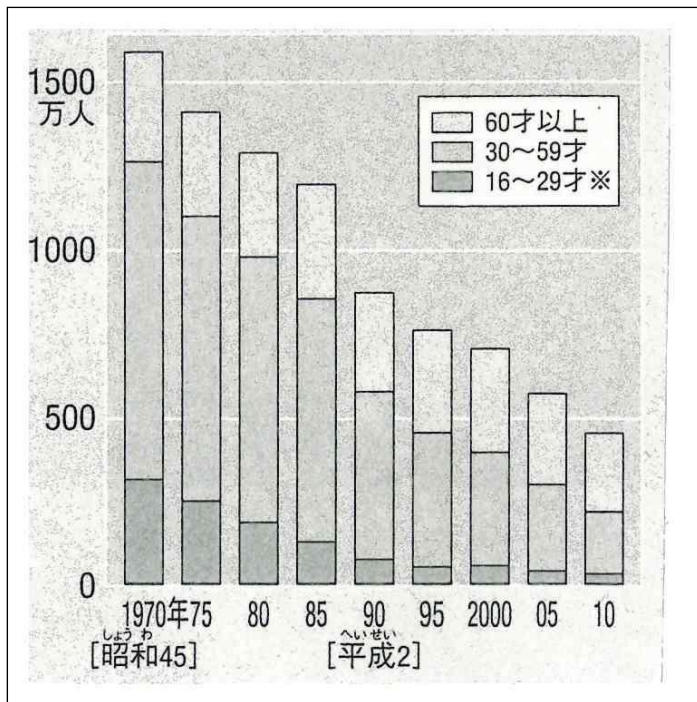
霧島市「今週の1問」
小6社会 5月25日版
進路・夢実現に向けて、この1問をクリア
しよう！

解 答

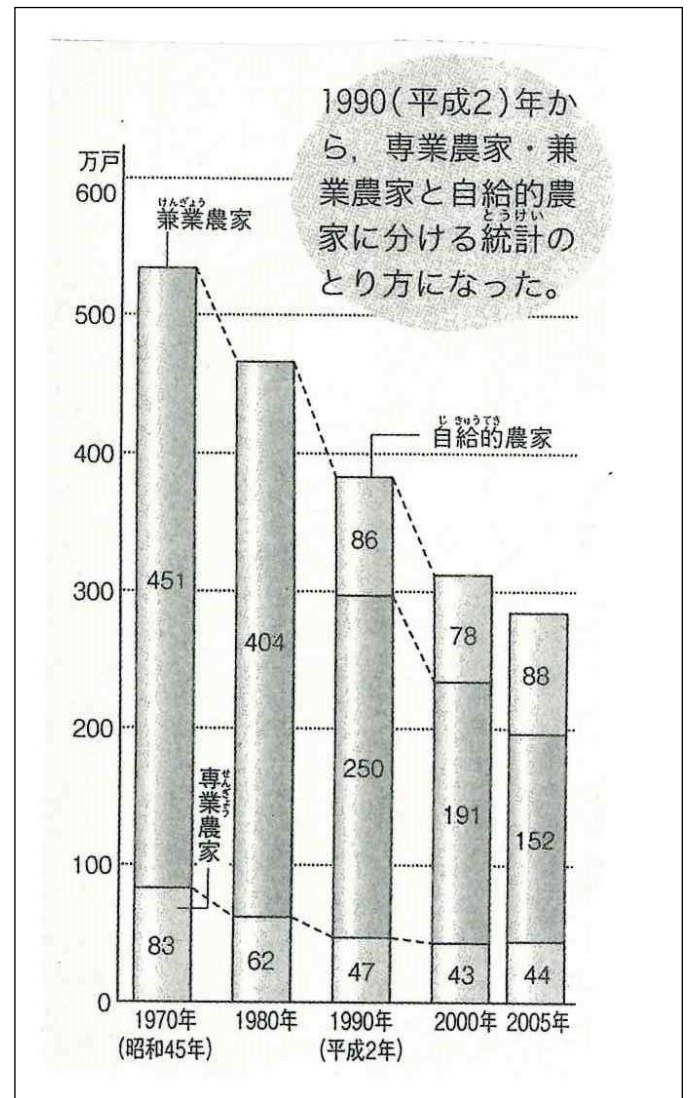
(鹿児島学力向上 Web システムから)

- 1 資料1・2から、1970年ころと比べると、現在の日本の農業には、どのような問題があることがわかりますか。その説明を□の中に「1970年と比べると」の書き出しで書きましょう。

(資料1) 農業で働く人数の変化



(資料2) 農家数の移り変わり



(例) 1970年ころと比べると、農家の数は半分近くに、農業で働く人の数は3分の1以下に大きく減少している。特に、兼業しながらも農業を行うという農家が減少していること、農業で働く若い人々が減り、農家の高齢化が進んでいることから、後継者(農業をつぐ人)がいないことは大きな問題である。