



霧島市「今週の1問」  
 小6社会 9月7日版  
 進路・夢実現に向けて、この1問をクリア  
 しよう !!

名前


(H27鹿児島学習定着度問題から)

1 日本の地形や気候の特色について、各問いに答えましょう。

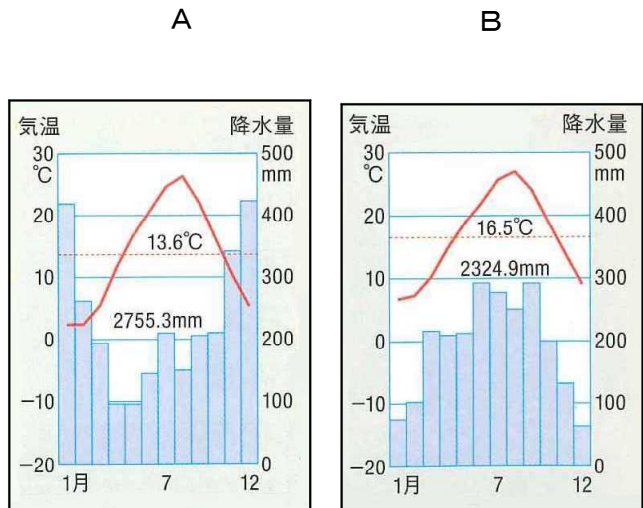
(1) 日本の地形や気候の特色について述べた、次の文の( ① )、( ② )にあてはまる言葉や記号を  の中に書きましょう。

日本は、南北に細長く、本州の中央部には山地や山脈が連なっています。資料1に示したように、この山地や山脈と( ① )風の影響によって、太平洋側と日本海側では気候の特色に大きなちがいが見られます。下の資料2のグラフは、月ごとの降水量と平均気温を示しており、A・Bのうち、日本海側にある新潟県上越市のグラフは( ② )の方です。

(資料1) 風と山地の関係



(資料2) 二つの地域の雨温図



①  風

② (記号)

(2) (1)の②でAかBのいずれかを選んだ理由について、(資料1)を見て分かることを文章で表して書きましょう。



霧島市「今週の1問」  
 小6社会 9月7日版  
 進路・夢実現に向けて、この1問をクリア  
 しよう !!


**解答**

(H27鹿児島学習定着度問題から)

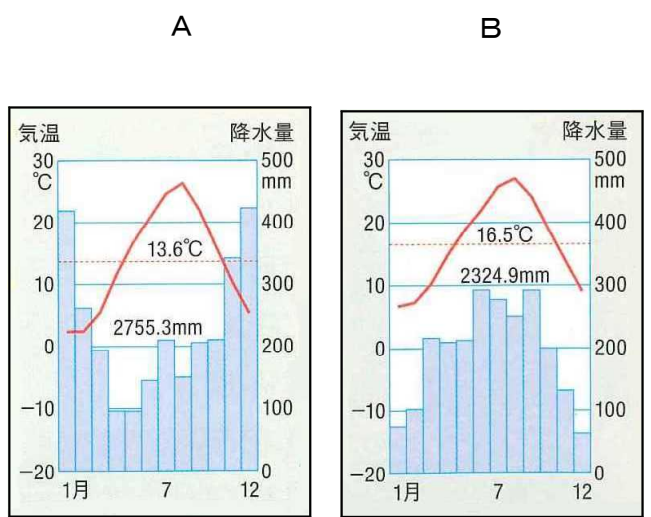
- 1 日本の地形や気候の特色について、各問いに答えましょう。
- (1) 日本の地形や気候の特色について述べた、次の文の( ① )、( ② )にあてはまる言葉や記号を  の中に書きましょう。

日本は、南北に細長く、本州の中央部には山地や山脈が連なっています。資料1に示したように、この山地や山脈と( ① )風の影響によって、太平洋側と日本海側では気候の特色に大きなちがいが見られます。下の資料2のグラフは、月ごとの降水量と平均気温を示しており、A・Bのうち、日本海側にある新潟県上越市のグラフは( ② )の方です。

(資料1) 風と山地の関係



(資料2) 二つの地域の雨温図



① 季節 風

② (記号) A

- (2) (1)の②でAかBのいずれかを選んだ理由について、(資料1)を見て分かることを文章で表して書きましょう。

新潟県上越市は日本海側にあるので、冬は日本海のしめった空気をふくんだ季節風が山地にぶつかり、雨雲ができて雪や雨が多く降ります。冬の1月や12月に降水量が多いのは、Aのグラフだから。