



霧島市「今週の1問」
 小6社会 11月30日版
 進路・夢実現に向けて、この1問をクリア
 しよう!!

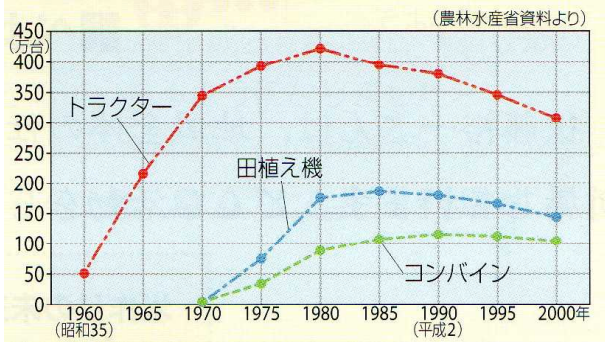
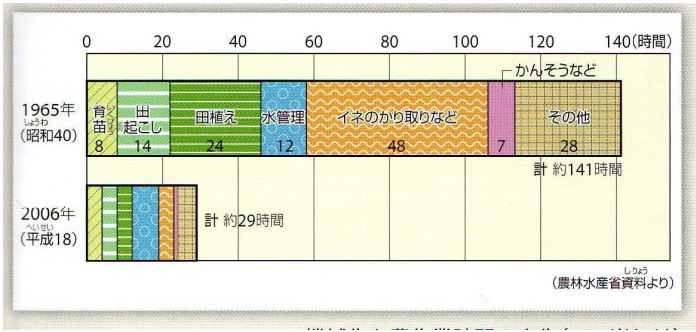
名前

(H28鹿児島学習定着度問題から)

1 昔と比べると現在の農業の様子はどのように変化していますか。資料1・2からわかることを関連づけて、変化の様子の説明を の中に書きましょう。

(資料1) 10aあたりの農作業時間

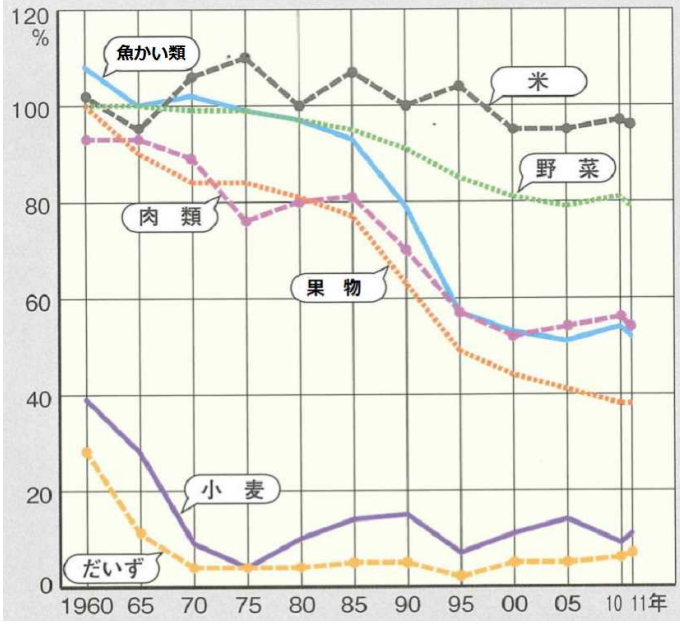
(資料2) 農業用機械の保有台数の変化



2 次の文を読んで、食料の生産や販売に関する各問いに答えましょう。

資料3は自分たちが食べる食料のうち、自分たちの国で生産されている食料の割合の変化を示したものです。食料の中には、小麦・だいのように国内で生産している割合が非常に低いものもあります。果物についてみると、1960年は、およそ(あ)%だったが、2011年はおよそ(い)%で、50年ほどの間に約60ポイント減少しています。

(資料3) 主な食料の国内で生産された割合



① 文中の下線部 自分たちが食べる食料のうち、自分たちの国で生産されている食料の割合 のことを何といいますか。 の中に書きましょう。

② 上の文中の(あ)・(い)にあてはまる数字を の中に書きましょう。

あ	およそ	%
い	およそ	%

[2013年 食料需給表]



霧島市「今週の1問」
 小6社会 11月30日版
 進路・夢実現に向けて、この1問をクリア
 しよう!!

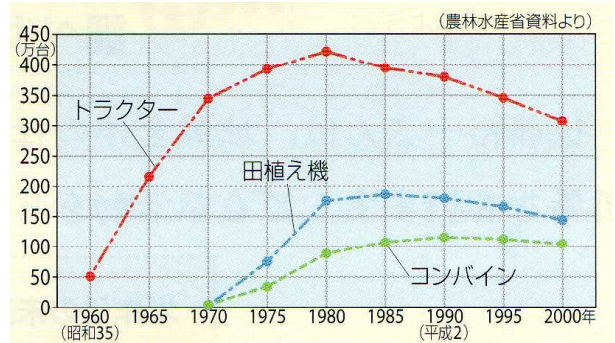
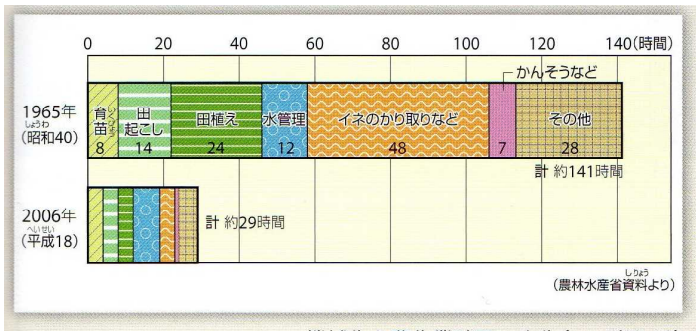
解答

(H28鹿児島学習定着度問題から)

1 昔と比べると現在の農業の様子はどうに変化していますか。資料1・2からわかることを関連づけて、変化の様子の説明を の中に書きましょう。

(資料1) 10aあたりの農作業時間

(資料2) 農業用機械の保有台数の変化

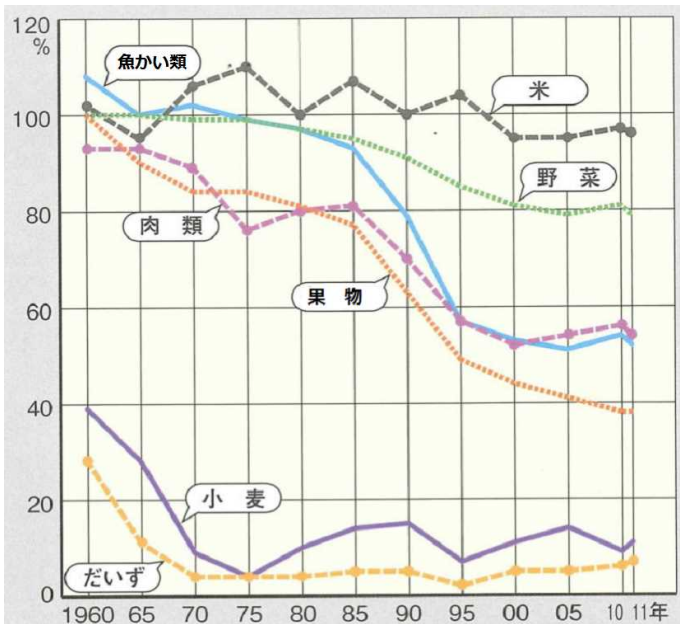


(例) トラクターや田植機、コンバインなどの機械を使って農作業をする農家が多くなってきたために、農作業の時間がおよそ5分の1くらいに短縮された。

2 次の文を読んで、食料の生産や販売に関する各問いに答えましょう。

資料3は自分たちが食べる食料のうち、自分たちの国で生産されている食料の割合の変化を示したものです。食料の中には、小麦・だいのように国内で生産している割合が非常に低いものもあります。果物についてみると、1960年は、およそ(あ)%だったが、2011年はおよそ(い)%で、50年ほどの間に約60ポイント減少しています。

(資料3) 主な食料の国内で生産された割合



① 文中の下線部 自分たちが食べる食料のうち、自分たちの国で生産されている食料の割合 のことを何といいますか。 の中に書きましょう。

食料自給率

② 上の文中の(あ)・(い)にあてはまる数字を の中に書きましょう。

あ	およそ	100	%
い	およそ	40	%

[2013年 食料需給表]