

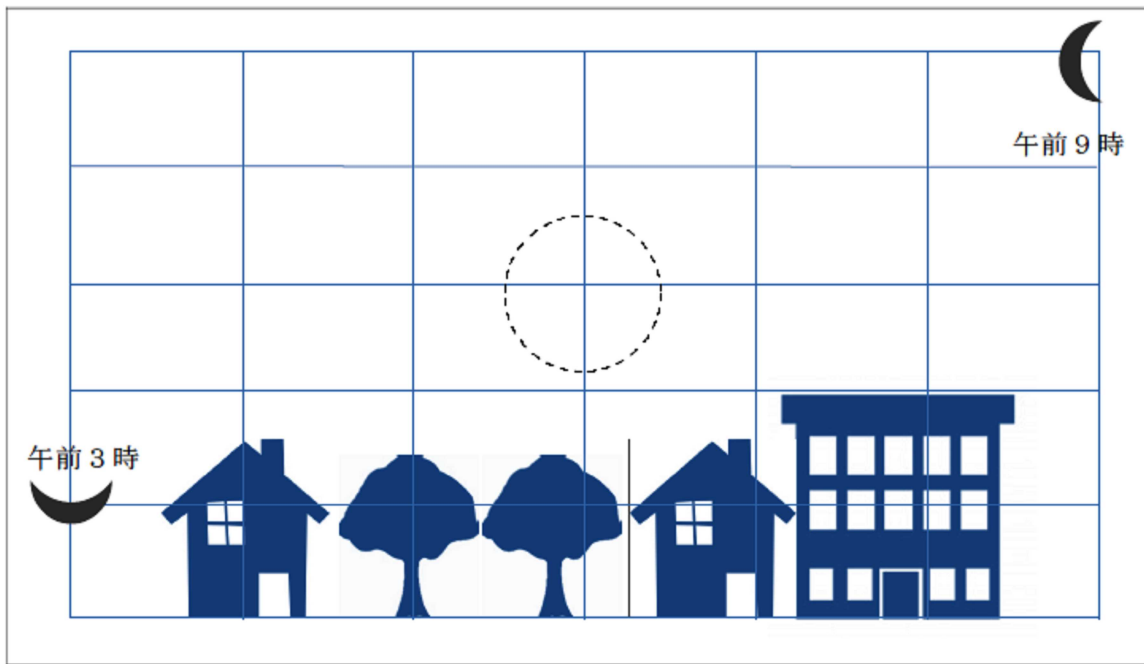


霧島市「今週の1問」
(中1) (理科) (5) 月 (11) 日版
Webシステム評価問題から

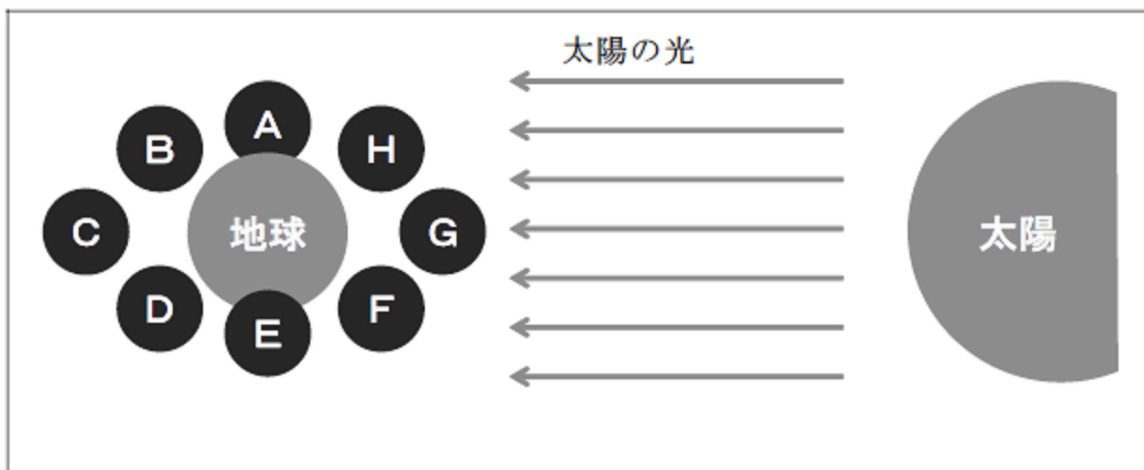
名前

月の動きと形について調べました, 次の問いに答えましょう。

- 1 午前3時と午前9時の月の位置を観察し, 下の図のように記録をしました。午前6時には, 月はどのような形で見えるでしょうか。○の中に形をかきましょう。



- 2 月の形が1の図のように見えるのは, 下の図のA~Hのどの位置に月があるときですか。記号で答えましょう。



Blank box for answer.



霧島市「今週の1問」
(中1) (理科) (5)月(11)日版
Webシステム評価問題から

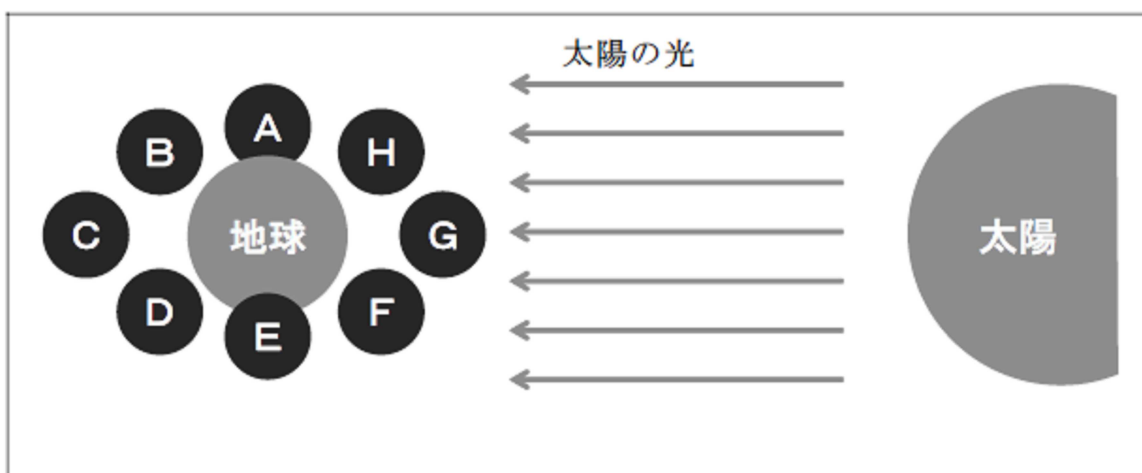
名前

月の動きと形について調べました, 次の問いに答えましょう。

- 1 午前3時と午前9時の月の位置を観察し, 下の図のように記録をしました。午前6時には, 月はどのような形で見えるでしょうか。○の中に形をかきましょう。



- 2 月の形が1の図のように見えるのは, 下の図のA~Hのどの位置に月があるときですか。記号で答えましょう。



F