



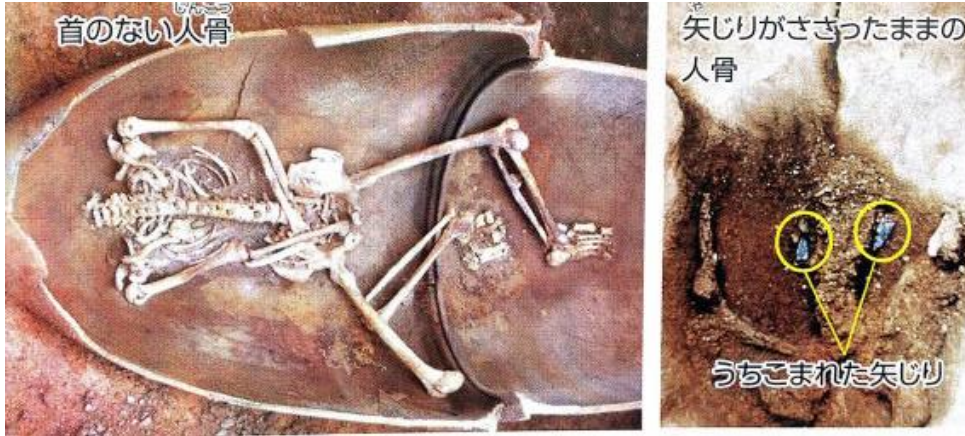
霧島市「今週の1問」
中1社会 6月1日版
進路・夢実現に向けて、この1問をクリア
しよう！

名前


(鹿児島学力向上 Web システムから)

○ 次の資料1～3を見て、下の問いに答えなさい。


(資料1) 弥生時代の墓の様子



(資料2) 縄文時代のむらの様子



(資料3) 弥生時代のむらの様子



問 弥生時代の墓からは、資料1のような首のない人骨や矢じりがささったままの人骨が出土しています。このことからどのようなことが分かりますか。

資料2・3の縄文時代と弥生時代のむらの様子のちがうところと関係付けて説明しなさい。



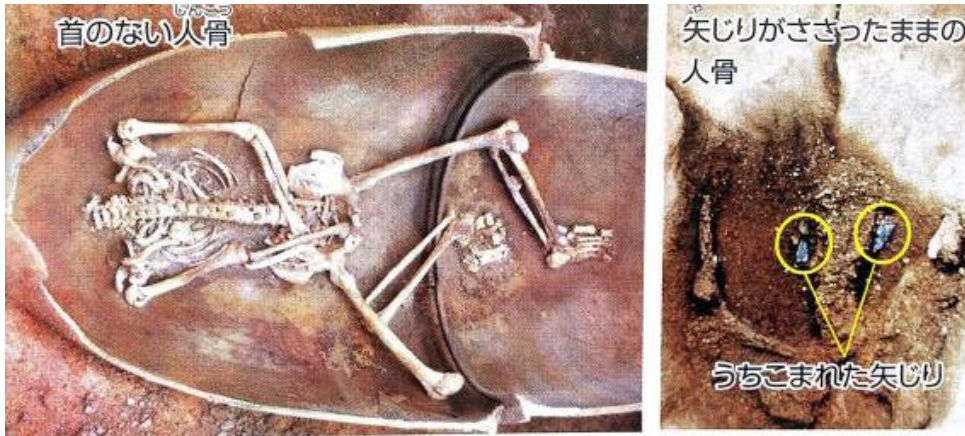
霧島市「今週の1問」
中1社会 6月1日版
進路・夢実現に向けて、この1問をクリア
しよう！

解 答


(鹿児島学力向上 Web システムから)

○ 次の資料1～3を見て、下の問いに答えなさい。


(資料1) 弥生時代の墓の様子



(資料2) 縄文時代のむらの様子



(資料3) 弥生時代のむらの様子



問 弥生時代の墓からは、資料1のような首のない人骨や矢じりがささったままの人骨が出土しています。このことからどのようなことが分かりますか。

資料2・3の縄文時代と弥生時代のむらの様子のちがうところと関係付けて説明しなさい。

(例) 弥生時代になると、縄文時代にはなかった建物のまわりを囲むへいや物見やぐらがあることから、蓄えた食料や米をつくるための田や水などをめぐってむら同士の争いが起こるようになり、資料1の墓はその戦いで亡くなった人のものであることが分かる。