



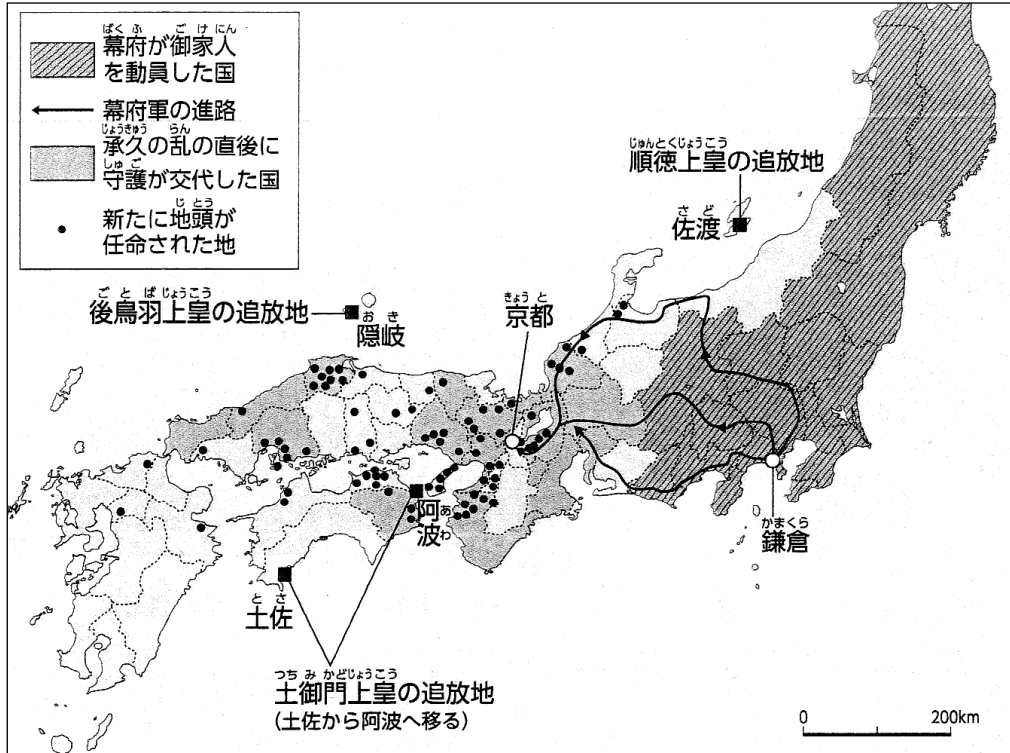
霧島市「今週の1問」  
 中1社会 1月25日版  
 進路・夢実現に向けて、この1問をクリア  
 しよう！

名前

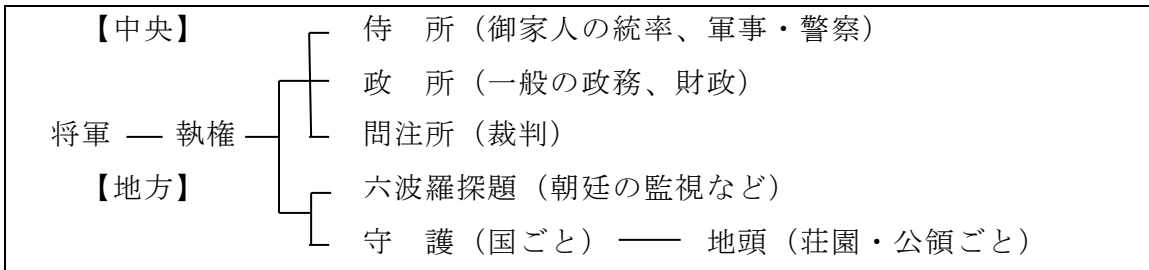
(かごしま学力向上支援 Web システムから)

○ 次の資料1・2を見て、下の問いに答えなさい。

(資料1) 承久の乱とその後の動き



(資料2) 鎌倉幕府のしくみ



問い 承久の乱によって、鎌倉幕府の支配する範囲はどのように変化したか。資料1・2から分かったことを使って、説明せよ。



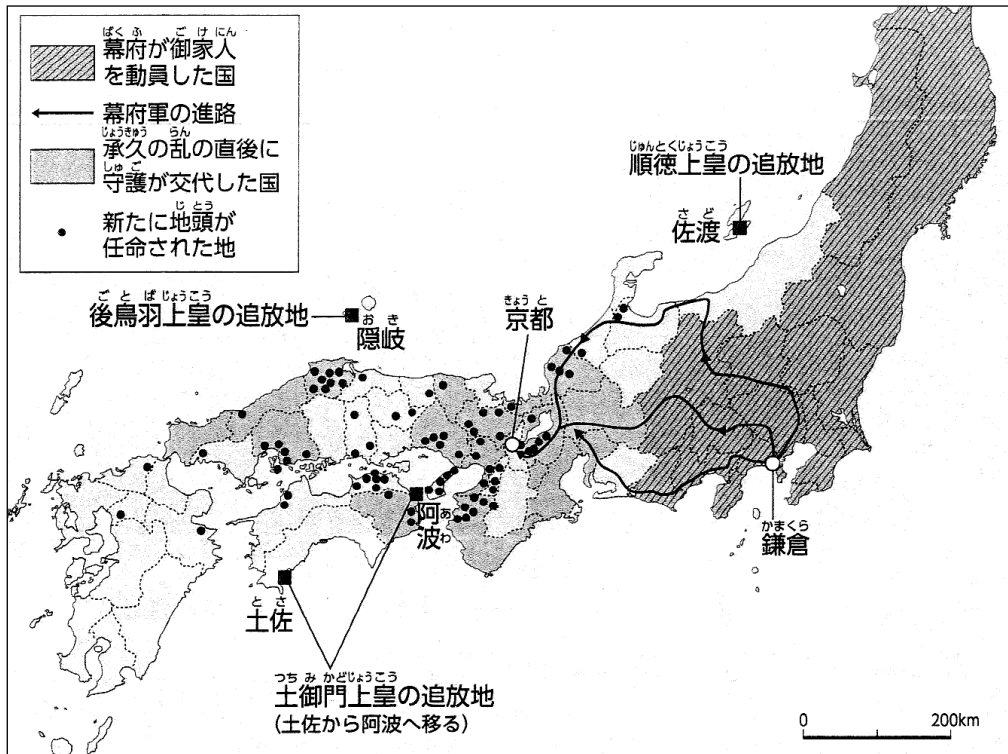
霧島市「今週の1問」  
中1社会 1月25日版  
進路・夢実現に向けて、この1問をクリア  
しよう！

解 答

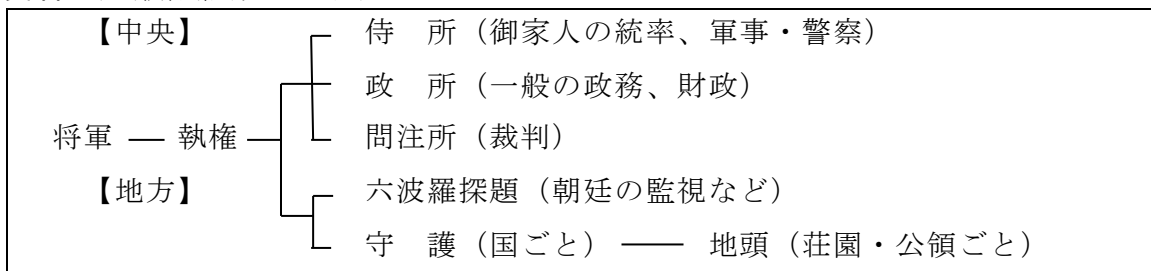
(かごしま学力向上支援 Web システムから)

○ 次の資料1・2を見て、下の問いに答えなさい。

(資料1) 承久の乱とその後の動き



(資料2) 鎌倉幕府のしくみ



問い 承久の乱によって、鎌倉幕府の支配する範囲はどのように変化したか。資料1・2から分かったことを使って、説明せよ。

(例) 承久の乱以前は、幕府の支配が及ぶのは東日本が中心だったが、乱の後に、幕府側の守護や地頭を西日本に配置するとともに、朝廷を監視する六波羅探題を京都に置くことで、西日本にも幕府の支配が及ぶようになった。