




霧島市「今週の1問」
中2社会 6月15日版
進路・夢実現に向けて、この1問をクリア
しよう！

名前

(鹿児島学力向上 Web システムから)

○ 次の資料を見て、下の問いに答えなさい。


(資料1) 倭寇とそれを防ぐ明軍との戦い



(資料2) 室町時代の海上交通と倭寇



(資料3) 当時使用したもの



問い 室町時代の明との勘合貿易がどのようにして始まったのか、資料1～3から分かることを用いて、資料3が何かを明らかにして説明しなさい。

Blank area for writing the answer to the question.



霧島市「今週の1問」
中2社会 6月15日版
進路・夢実現に向けて、この1問をクリア
しよう！

解 答

(鹿児島学力向上 Web システムから)

○ 次の資料を見て、下の問いに答えなさい。


(資料1) 倭寇とそれを防ぐ明軍との戦い



(資料2) 室町時代の海上交通と倭寇



(資料3) 当時使用したもの



問い 室町時代の明との勘合貿易がどのようにして始まったのか、資料1～3から分かることを用いて、資料3が何かを明らかにして説明しなさい。

(例) このころ、倭寇が朝鮮や中国の沿岸を襲うようになったため(資料1から)、明と室町幕府は貿易をしていたが(資料2から)貿易船をおそう被害が増えたため、明は室町幕府に倭寇の取り締まりを求めた。このため、足利義満は倭寇を禁じるとともに、正式な貿易船には明から与えられた勘合という証明書(資料3)を持たせて貿易を行うようになった。

(日明貿易・勘合貿易といいます。)