




霧島市「今週の1問」
中2社会 2月1日版
進路・夢実現に向けて、この1問をクリア
しよう！

名前

(かごしま学力向上支援 Web システムから)

1 資料1は、1890年、帝国議会の第1回衆議院議員選挙を風刺（遠回しに批判）した絵である。この絵の作者が批判したかったことを、資料2から分かることも使って説明しなさい。

(資料1)
衆議院議員選挙の風刺画
(警官の後ろにいるのは
投票権がなく見学してい
る人々)



(資料2)
有権者数の移り変わり






霧島市「今週の1問」
中2社会 2月1日版
進路・夢実現に向けて、この1問をクリア
しよう！

解 答

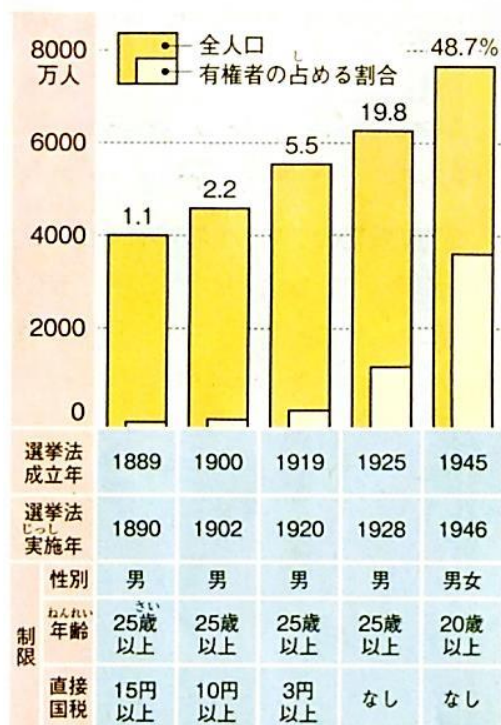
(かごしま学力向上支援 Web システムから)

- 1 資料1は、1890年、帝国議会の第1回衆議院議員選挙を風刺(遠回しに批判)した絵である。この絵の作者が批判したかったことを、資料2から分かることも使って説明しなさい。

(資料1)
衆議院議員選挙の風刺画
(警官の後ろにいるのは
投票権がなく見学してい
る人々)



(資料2)
有権者数の移り変わり



(例) 選挙権があるのは、直接国税 15 円以上という高額のを納めている人だけで、100 人に 1 人くらいしかいないという制限の強い選挙で、投票できない人々の方が多かったということを批判している。