



霧島市「今週の1問」
 中2社会 3月8日版
 進路・夢実現に向けて、この1問をクリア
 しよう !!

名前

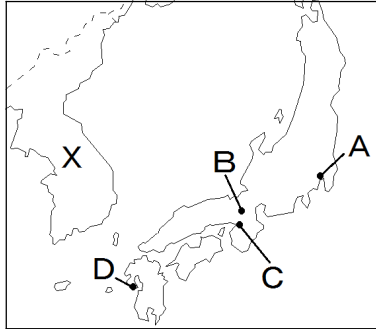
(H26 鹿児島学習定着度問題から)

1 次の略年表と地図、資料を見て、各問いに答えなさい。

(略年表)

年代	おもなできごと
1600	関ヶ原の戦い <small>せきがはら たたか</small> が起こる
1603	江戸幕府 <small>えどばくふ</small> が開かれる
1615	a <u>武家諸法度</u> <small>ぶけしよはつと</small> が定められる
1641	徳川家光 <small>とくがわいえみつ</small> のときに b <u>鎖国</u> <small>さこく</small> の体制が固まる
1853	アメリカの使節ペリーが浦賀に来る


(地図)



(資料1)



(資料2)



(資料3)



(1) 資料1の人物は、資料2の朱印状しゆいんじょうを与え、海外渡航を許し、朱印船しゆいんせんを使った貿易の発展に努めた。この人物名を答えよ。

(2) 江戸時代には、三都さんととよばれる都市が発達した。三都の中で、当時「将軍のおひざもと」とよばれ、政治の中心であった都市を地図中のA～Dから一つ選び、記号で答えよ。

(3) 下線部 a の武家諸法度について、徳川家光が将軍となったときに改訂して出されたものには、1年おきに江戸と領地を往復する制度が付け加えられている。この制度を何というか、答えよ。

(4) 下のア～エは、下線部 b の鎖国にいたるまでのできごとである。時代順に並べたとき、3番目に当てはまるものを一つ選び、記号で答えよ。

- ア オランダ商館でじまを出島に移す。
- イ 秀吉ひでよしがバテレンついはうれい追放令を出す。
- ウ 島原・天草一揆しまばら あまくさいつきが起きる。
- エ 全国にキリスト教禁止令を出す。

(5) 資料3は、鎖国の体制が固まった後も将軍の代がわりに、地図中Xの国から祝賀の使節として日本に派遣はけんされた人々である。この人々を何というか、答えよ。



霧島市「今週の1問」
 中2社会 3月8日版
 進路・夢実現に向けて、この1問をクリア
 しよう !!

解答

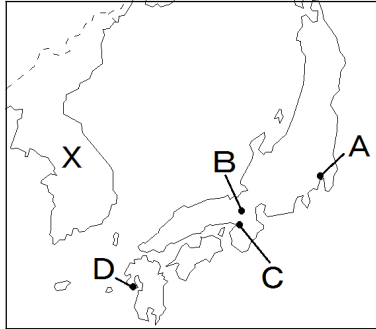
(H26 鹿児島学習定着度問題から)

1 次の略年表と地図、資料を見て、各問いに答えなさい。

(略年表)

年代	おもなできごと
1600	関ヶ原の戦い <small>せきがはら たたか</small> が起こる
1603	江戸幕府 <small>えどばくふ</small> が開かれる
1615	a <u>武家諸法度</u> <small>ぶけしよほつと</small> が定められる
1641	徳川家光 <small>とくがわいえみつ</small> のときに b <u>鎖国</u> <small>さこく</small> の体制が固まる
1853	アメリカの使節ペリーが浦賀に来る


(地図)



(資料1)



(資料2)



(資料3)



(1) 資料1の人物は、資料2の朱印状しゆいんじょうを与え、海外渡航を許し、朱印船しゆいんせんを使った貿易はってんの発展に努めた。この人物名を答えよ。

徳川 家康

(2) 江戸時代には、三都さんととよばれる都市が発達した。三都の中で、当時「将軍のおひざもと」とよばれ、政治の中心であった都市を地図中のA～Dから一つ選び、記号で答えよ。

A

(3) 下線部 a の武家諸法度について、徳川家光が将軍となったときに改訂して出されたものには、1年おきに江戸と領地を往復する制度が付け加えられている。この制度を何というか、答えよ。

参勤交代

(4) 下のア～エは、下線部 b の鎖国にいたるまでのできごとである。時代順に並べたとき、3番目に当てはまるものを一つ選び、記号で答えよ。

ア オランダ商館を出島でじまに移す。1635年

イ 秀吉がバテレン追放令ついはうれいを出す。1587年

ウ 島原・天草一揆あまくさいつきが起きる。1637年

イ→ア→ウ→エ

ウ

エ 全国にキリスト教禁止令を出す。1639年 鎖 3 (さ) こ 9 (く) 鎖国しやうこくになったと覚えよう。

(5) 資料3は、鎖国の体制が固まった後も将軍の代がわりに、地図中Xの国から祝賀の使節として日本に派遣はけんされた人々である。この人々を何というか、答えよ。

(朝鮮) 通信使