



霧島市「今週の1問」
 中3社会 12月14日版
 進路・夢実現に向けて、この1問をクリア
 しよう !!

名前

(H 26 鹿児島県公立高校入試問題から)

1 次の問いに答えなさい。答えを選ぶ問いについては一つ選び、記号を書きなさい。
 次のA～Dは、ある中学生が時代ごとのできごとについてまとめたものである。1～5の
 問いに答えよ。

A 藤原氏は、摂政や関白として政治を行った。文化面では、国風文化が栄え、紫式部の「源氏物語」や清少納言の「**①**」などの文学作品が生まれた。

C 3代将軍となった**②**は、**㊦**武家諸法度を改め、幕府の支配体制を確立した。また、貿易と海外の情報を幕府が独占する鎖国体制も完成した。

B 足利義政が将軍であったときに応仁の乱が始まり、戦乱は全国に広がった。その後、ヨーロッパ人が来航するようになると、鉄砲や**㊦**キリスト教が伝来した。

D 稲作がさかんになると、社会のしくみも急速に変わり、各地に支配者が出現し、**㊦**国ができていった。中には、中国に使いを送る国もあった。

1 **①**、**②**にあてはまる最も適切なことばや人名をそれぞれ漢字で書け。

① _____、**②** _____

- 2 **B**の時代のようにすについて述べた文として、最も適切なものはどれか。
A 明との貿易で栄えた堺では、寄合によって町の自治が行われた。
イ 兵庫の港や瀬戸内海の航路が整備され、中国の宋と貿易が行われた。
ウ 「天下の台所」とよばれた大阪が、商業の中心地となり繁栄した。
エ 和同開珎などの銅銭が作られ、平城京を中心として流通した。

3 **㊦**に関して、**資料1**の人物が所属していたイエズス会が、アジアなどに宣教師を送り、布教活動に力を入れた目的について、**宗教改革**、**カトリック教会**ということばを使って書け

4 **㊦**に関して述べた次の文の**①**、**②**に適することばを補い、これを完成させよ。ただし、**②**は図を参考にして書くこと。

大名が1年おきに自分の領地を離れて江戸に滞在することを義務づけられた制度を**①**という。江戸での滞在には**②**ので、大名には大きな負担となった。

① ()、**②** ()

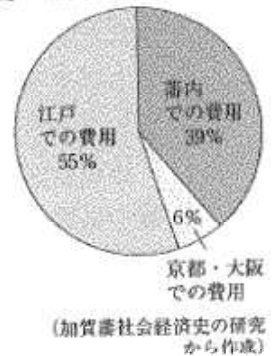
5 **㊦**に関して、**資料2**は、吉野ケ里遺跡に復元された建物群である。この遺跡のある場所は、**略地図**中の**A～E**のうちどれか。

()

資料1



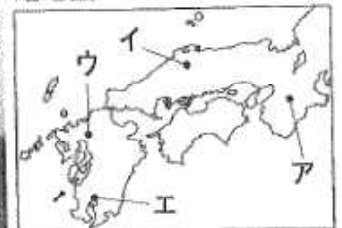
図 加賀藩の支出の内訳



資料2



略地図





霧島市「今週の1問」
 中3社会 12月14日版
 進路・夢実現に向けて、この1問をクリア
 しよう !!

解答

(H 26 鹿児島県公立高校入試問題から)

1 次の問いに答えなさい。答えを選ぶ問いについては一つ選び、記号を書きなさい。
 次のA～Dは、ある中学生が時代ごとのできごとについてまとめたものである。1～5の
 問いに答えよ。

A 藤原氏は、摂政や関白として政治を行った。文化面では、国風文化が栄え、紫式部の「源氏物語」や清少納言の「**①**」などの文学作品が生まれた。

C 3代将軍となった**②**は、**㊦**武家諸法度を改め、幕府の支配体制を確立した。また、貿易と海外の情報を幕府が独占する鎖国体制も完成した。

B 足利義政が将軍であったときに応仁の乱が始まり、戦乱は全国に広がった。その後、ヨーロッパ人が来航するようになると、鉄砲や**㊦**キリスト教が伝来した。

D 稲作がさかんになると、社会のしくみも急速に変わり、各地に支配者が出現し、**㊦**国ができていった。中には、中国に使いを送る国もあった。

1 **①**、**②**にあてはまる最も適切なことばや人名をそれぞれ漢字で書け。

① 枕草子、**② 徳川家光**

2 **B**の時代のように述べて文として、最も適切なものはどれか。

- ア** 明との貿易で栄えた堺では、寄合によって町の自治が行われた。
- イ** 兵庫の港や瀬戸内海の航路が整備され、中国の宋と貿易が行われた。
- ウ** 「天下の台所」とよばれた大阪が、商業の中心地となり繁栄した。
- エ** 和同開珎などの銅銭が作られ、平城京を中心として流通した。

3 **㊦**に関して、資料1の人物が所属していたイエズス会が、アジアなどに宣教師を送り、布教活動に力を入れた目的について、**宗教改革**、**カトリック教会**ということばを使って書け

宗教改革の動きに対して、カトリック教会を立て直すため。

4 **㊦**に関して述べた次の文の**①X**、**①Y**に適することばを補い、これを完成させよ。ただし、**①Y**は図を参考にして書くこと。

大名が1年おきに自分の領地を離れて江戸に滞在することを義務づけられた制度を**①X**という。江戸での滞在には**①Y**ので、大名には大きな負担となった。

X (**参勤交代**)、Y (**多くの費用がかかった**)

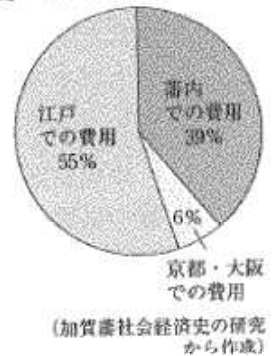
5 **㊦**に関して、資料2は、吉野ケ里遺跡に復元された建物群である。この遺跡のある場所は、略地図中の**ア～エ**のうちどれか。

(**ウ**)

資料1



図 加賀藩の支出の内訳



資料2



略地図

