



霧島市「今週の1問」
小5算数 1月11日版
R2鹿児島学習定着度調査から

名前

問 下の1~4の各問いに答えましょう。

1 3.2にいろいろな小数をかけたり、3.2をいろいろな小数でわったりします。次のア~エの中で、答えが3.2より小さくなるものをすべて選び、の中にその記号を書きましょう。

ア 3.2×1.6

イ 3.2×0.8

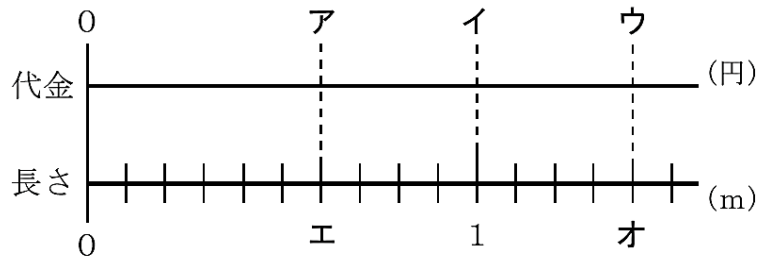
ウ $3.2 \div 0.8$

エ $3.2 \div 1.6$

2 1mあたりの値段が140円のテープを0.6m買います。このときの代金を円として、テープの長さとの関係を下の図に表します。

テープ1mあたりの値段140円の「140」、買う長さ0.6mの「0.6」、0.6m分の代金円の「」のそれぞれの場所は、下の図のどこになりますか。

下のア~オの中で、あてはまるものを1つずつ選び、の中にその記号を書きましょう。



1mあたりの値段140円
の「140」の場所

買う長さ0.6mの
「0.6」の場所

0.6m分の代金円
の「」の場所

3 次のア~オの四角形の中で、「2本の対角線が垂直に交わる四角形」をすべて選び、の中にその記号を書きましょう。

ア 平行四辺形

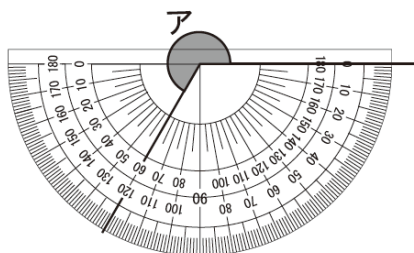
イ 正方形

ウ 台形

エ ひし形

オ 長方形

4 下の色の付いた角アの角度は何度でしょうか。


 度



霧島市「今週の1問」
小5算数 1月11日版
R2鹿児島学習定着度調査から

名前 解 答

問 下の1~4の各問いに答えましょう。

- 1 3.2にいろいろな小数をかけたり、3.2をいろいろな小数でわったりします。次のア~エの中で、答えが3.2より小さくなるものをすべて選び、の中にその記号を書きましょう。

ア 3.2×1.6 イ 3.2×0.8

ウ $3.2 \div 0.8$ エ $3.2 \div 1.6$

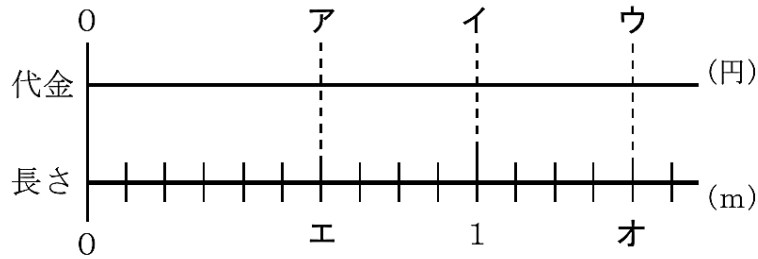
1より小さい数をかけると積は
かけられる数より小さくなる。
1より大きい数でわると商は
わられる数より小さくなる。

イ・エ

- 2 1mあたりの値段が140円のテープを0.6m買います。このときの代金を円として、テープの長さとの関係を下の図に表します。

テープ1mあたりの値段140円の「140」、買う長さ0.6mの「0.6」、0.6m分の代金円の「」のそれぞれの場所は、下の図のどこになりますか。

下のア~オの中で、あてはまるものを1つずつ選び、の中にその記号を書きましょう。



1mあたりの値段140円
の「140」の場所

買う長さ0.6mの
「0.6」の場所

0.6m分の代金円
の「」の場所

イ

エ

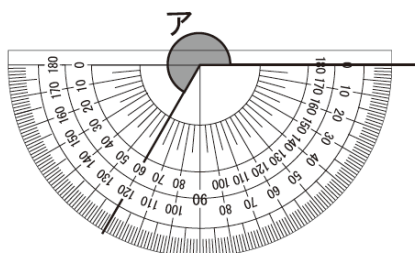
ア

- 3 次のア~オの四角形の中で、「2本の対角線が垂直に交わる四角形」をすべて選び、の中にその記号を書きましょう。

ア 平行四辺形 イ 正方形 ウ 台形
エ ひし形 オ 長方形

イ・エ

- 4 下の色の付いた角アの角度は何度でしょうか。



240 度