



霧島市「今週の1問」
 (中1)(理科)(6)月(14)日版
 R2小5定着度調査から

名前

鹿児島県に住んでいる太郎さんと正子さんが、公園で遊んでいます。次の問いに答えましょう。

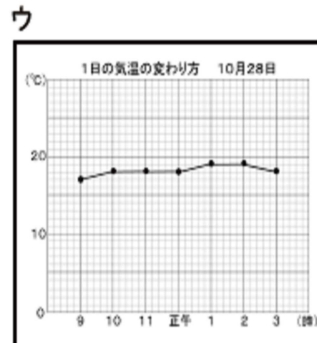
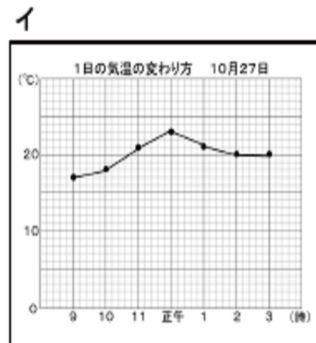
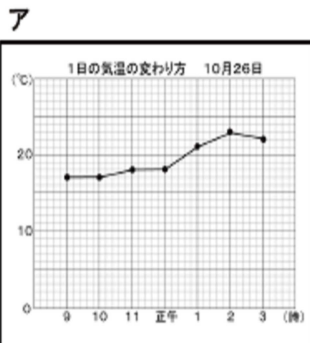
- 1 かげをつくって遊んでいると、右の図のようにかげができました。このとき、太陽はどの方位にあるでしょうか。□に方位を書きましょう。



- 2 この日の気温をグラフにすると、どのようなグラフになるでしょうか。2人の会話をもとに、最も適切なものを、次のア~ウから1つ選び、記号を□に書きましょう。

太郎:もう5時だね。そろそろ帰ろうか。

正子:そうだね。今日は午前中は雨だったけど、午後から晴れてよかったね。



- 3 家に帰った太郎さんは、午後6時にニュースで天気予報を見ました。そして、下の雲画像を見て、鹿児島県の明日の天気は「くもり」か「雨」になるだろうと予想しました。太郎さんがそのように予想した理由について、アとイに東、西、南、北のいずれかの方位を入れて文を完成させましょう。



太郎: 雲画像のようすから、明日の天気は「くもり」か「雨」だろうな。
 なぜなら、鹿児島県の(ア)の方にある雲が、(イ)に動いていき、鹿児島県の上空に雲がかかると考えたからだよ。



霧島市「今週の1問」
 (中1)(理科)(6)月(14)日版
 R2小5定着度調査から

名前

鹿児島県に住んでいる太郎さんと正子さんが、公園で遊んでいます。次の問いに答えましょう。

- 1 かげをつくって遊んでいると、右の図のようにかげができました。このとき、太陽はどの方位にあるでしょうか。□に方位を書きましょう。

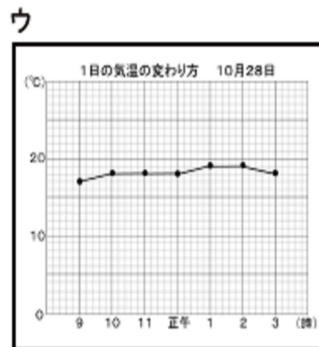
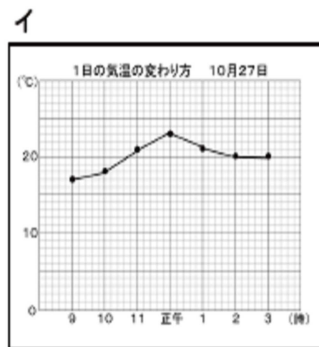
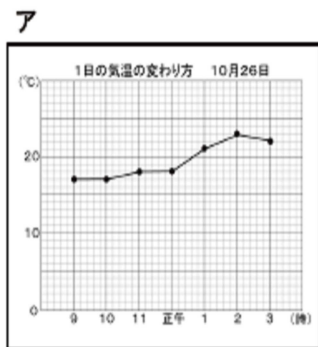


西

- 2 この日の気温をグラフにすると、どのようなグラフになるでしょうか。2人の会話をもとに、最も適切なものを、次のア～ウから1つ選び、記号を□に書きましょう。

太郎:もう5時だね。そろそろ帰ろうか。

正子:そうだね。今日は午前中は雨だったけど、午後から晴れてよかったね。



ア

- 3 家に帰った太郎さんは、午後6時にニュースで天気予報を見ました。そして、下の雲画像を見て、鹿児島県の明日の天気は「くもり」か「雨」になるだろうと予想しました。太郎さんがそのように予想した理由について、アとイに東、西、南、北のいずれかの方位を入れて文を完成させましょう。



太郎: 雲画像のようすから、明日の天気は「くもり」か「雨」だろうな。
 なぜなら、鹿児島県の(ア)の方にある雲が、(イ)に動いていき、鹿児島県の上空に雲がかかると考えたからだよ。

西

東