



進路・夢実現に向けて、この1問をクリアしよう!!

霧島市「今週の1問」

6 月 20 日版

学年

教科

5年

算数

名前

学びのポイント



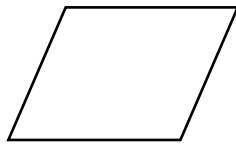

図形の性質や角度について復習しよう。

1 次のア～ウの四角形の中で「2本の対角線の長さが等しい四角形」をすべて選び、の中にその記号を書きましょう。

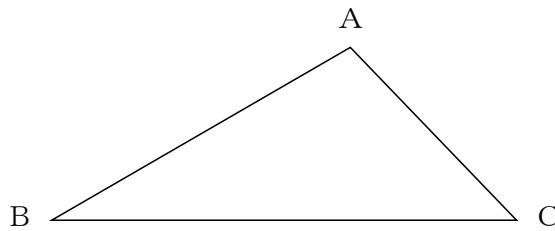
ア 正方形

イ 平行四辺形

ウ 長方形



2 下の三角形ABCと合同な三角形をかくためには、どの辺の長さや角の大きさを測ればよいでしょうか。次のア～エの中から1つ選び、の中にその記号を書きましょう。




ア 辺ABの長さと辺ACの長さ


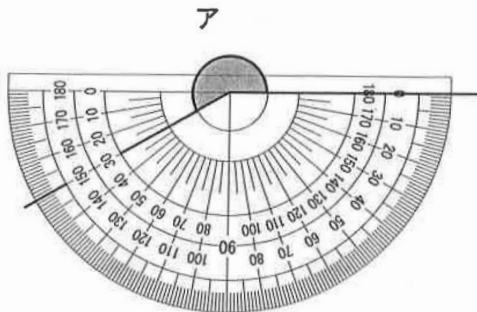
イ 辺ACの長さと角Aの大きさ

ウ 辺BCの長さと角Bと角Cの大きさ

エ 角Aと角Bと角Cの大きさ



3 下の色のついた角アの角度は何度でしょうか。



振り返り

※分かったこと、できるようになったこと、分からなかったこと、困っていること。