



進路・夢実現に向けて、この1問をクリアしよう!!

霧島市「今週の1問」

10 月 18 日版

学年

教科

名前

小5

理科

学びのポイント

太陽の動きと天気について考えよう。

鹿児島県にて太郎さんと正子さんが、公園で遊んでいます。次の問いに答えましょう。

1 かげをつくって遊んでいると、右の図のようにかげができました。このとき、太陽はどの方位にあるでしょうか。 に方位を書きましょう。

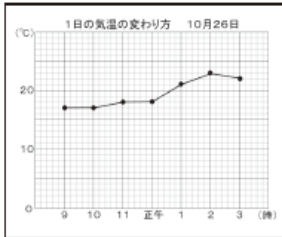


2 この日の気温をグラフにすると、どのようなグラフになるでしょうか。2人の会話をもとに、最も適切なものを、次のア～ウから1つ選び、記号を に書きましょう。

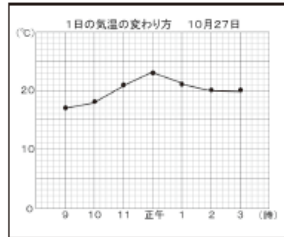
太郎：もう5時だね。そろそろ帰ろうか。

正子：そうだね。今日は午前中は雨だったけど、午後から晴れてよかったね。

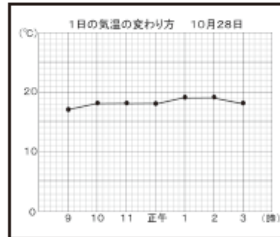
ア



イ




ウ



3 家に帰った太郎さんは、午後6時にニュースで天気予報を見ました。そして、下の雲画像を見て、鹿児島県の明日の天気は「くもり」か「雨」になるだろうと予想しました。太郎さんがそのように予想した理由について、アとイに東、西、南、北のいずれかの方位を入れて文を完成させましょう。

〈太郎くんの予想〉



雲画像の様子から、明日の天気は「くもり」か「雨」だろうな。
なぜなら、鹿児島県の（ア）の方にある雲が、（イ）に動いていき、鹿児島県の上空に雲がかかると思ったからだよ。

ア

イ

振り返り

※分かったこと、できるようになったこと、分からなかったこと、困っていること。