



進路・夢
実現に向けて、この1
問をクリア
しよう!!

霧島市「今週の1問」

10 月 3 日版

学年

教科

中学2年

社会

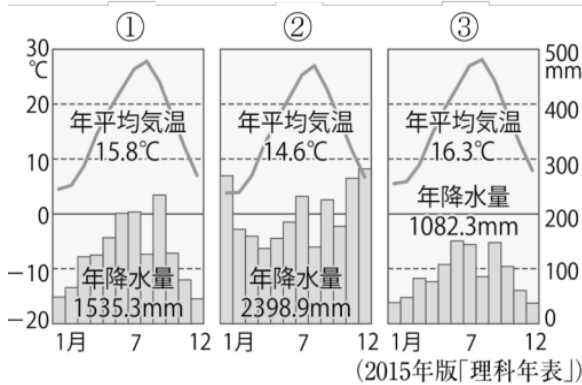
名前

学びの
ポイント

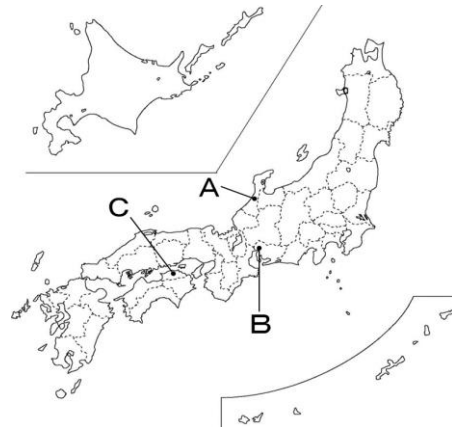
日本の気候の特徴が地域によって異なる理由を、地形や自然環境の影響から説明できるようになる。

資料1中①～③の雨温図は、資料2中A～Cのいずれかの都市のものである。資料3を参考に、資料2中Cの都市にあてはまる雨温図を、資料1中①～③から一つ選び、選んだ理由について、資料1と資料3から分かることを使って、文章で説明しなさい。

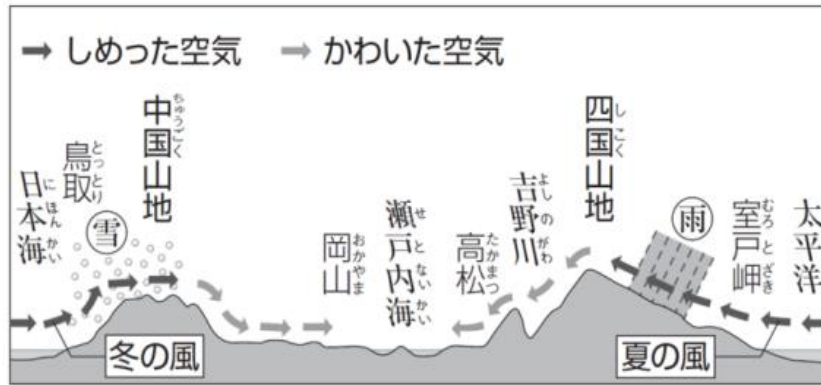
資料1



資料2



資料3



資料1から選んだ番号 []

選んだ理由

振り返り

※分かったこと、できるようになったこと、分からなかったこと、困っていること。