



霧島市「今週の1問」
小5社会 7月8日版
H28鹿児島学習定着度調査問題から

名前

- 1 以下は、日本の気候や地形の特色と人々の暮らしの工夫について述べたものです。これを読んで、各問いに答えましょう。

日本は、(①) の方角に細長い形をしており、中央部には山地や山脈が連なっているところもあります。この山地や山脈があることと、夏と冬で吹く方向が異なる (②) 風の影 響 によって、(A) は太平洋側で、(B) は日本海側で降水量が多くなります。

また、同じ日本でも、地域によってさまざまな地形のちがいが見られます。例えば③長野県川上村や南牧村付近の土地の高さと、④岐阜県海津市の土地の高さには、約2000mのちがひがあります。土地の高さがちがうと、そこに住む人々の暮らしや農業などの産業の様子にもちがひが見られます。例えば、長野県川上村や南牧村付近では、キャベツやレタスの生産がさかんです。また、岐阜県海津市では、米や果物、花の栽培がさかんです。

- (1) 文中の(①)、(②)にあてはまる言葉を、の中に書きましょう。ただし、②は漢字で書くこと。

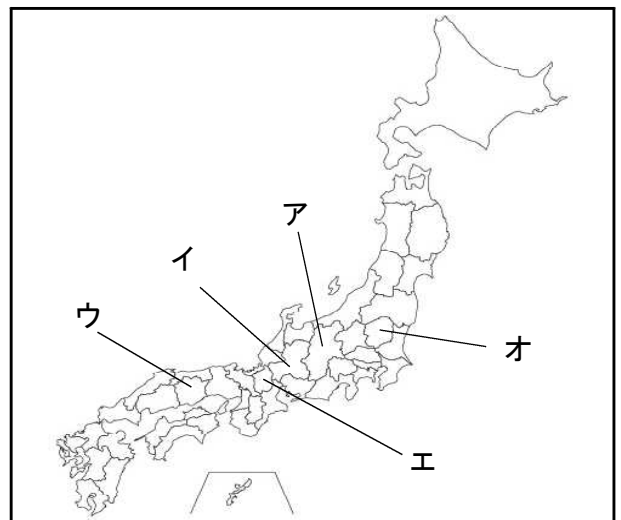
①

② 風

- (2) 文中の③長野県、④岐阜県の位置は、右の地図のア～オのどこですか。それぞれ記号で答えましょう

③

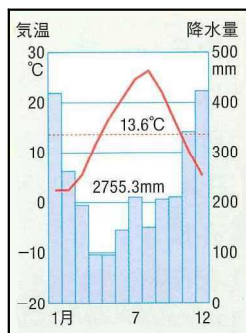
④



- (3) 文中の(A)、(B)にあてはまる季節を、漢字一文字でそれぞれ書きましょう。

A

B



発展

左の気温と降水量のグラフは、太平洋側でしょうか、それとも日本海側でしょうか。グラフの何に注目したかを明らかにして、どちら側かを説明しなさい。



霧島市「今週の1問」
小5社会 7月8日版
H28鹿児島学習定着度調査問題から

解答

1 以下は、日本の気候や地形の特色と人々の暮らしの工夫について述べたものです。これを読んで、各問いに答えましょう。

日本は、(①) の方角に細長い形をしており、中央部には山地や山脈が連なっているところもあります。この山地や山脈があることと、夏と冬で吹く方向が異なる (②) 風の影 響 によって、(A) は太平洋側で、(B) は日本海側で降水量が多くなります。

また、同じ日本でも、地域によってさまざまな地形のちがいが見られます。例えば③長野県川上村や南牧村付近の土地の高さと、④岐阜県海津市の土地の高さには、約2000mのちがいがあります。土地の高さがちがうと、そこに住む人々の暮らしや農業などの産業の様子にもちがいが見られます。例えば、長野県川上村や南牧村付近では、キャベツやレタスの生産がさかんです。また、岐阜県海津市では、米や果物、花の栽培がさかんです。

(1) 文中の(①)、(②)にあてはまる言葉を、の中に書きましょう。ただし、②は漢字で書くこと。

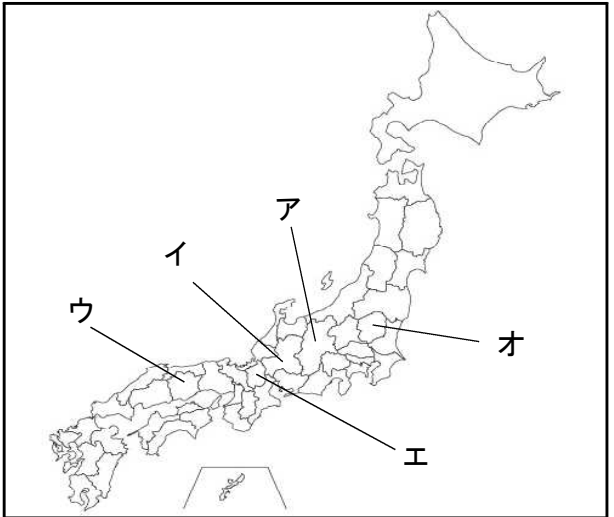
①

②

(2) 文中の③長野県、④岐阜県の位置は、右の地図の ア～オ のどこですか。それぞれ記号で答えましょう

③

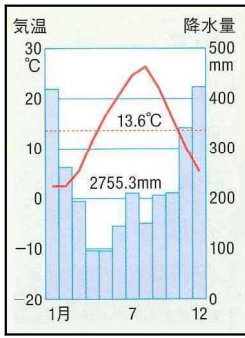
④



(3) 文中の(A)、(B)にあてはまる季節を、漢字一文字でそれぞれ書きましょう。

A

B



発展

左の気温と降水量のグラフは、太平洋側でしょうか、それとも日本海側でしょうか。グラフの何に注目したかを明らかにして、どちら側かを説明しなさい。

1月や12月の降水量を示す棒グラフが一年で最も高いので、日本海側である。