



霧島市「今週の1問」
小5社会 10月21日版
進路・夢実現に向けて、この1問をクリア
しよう!!

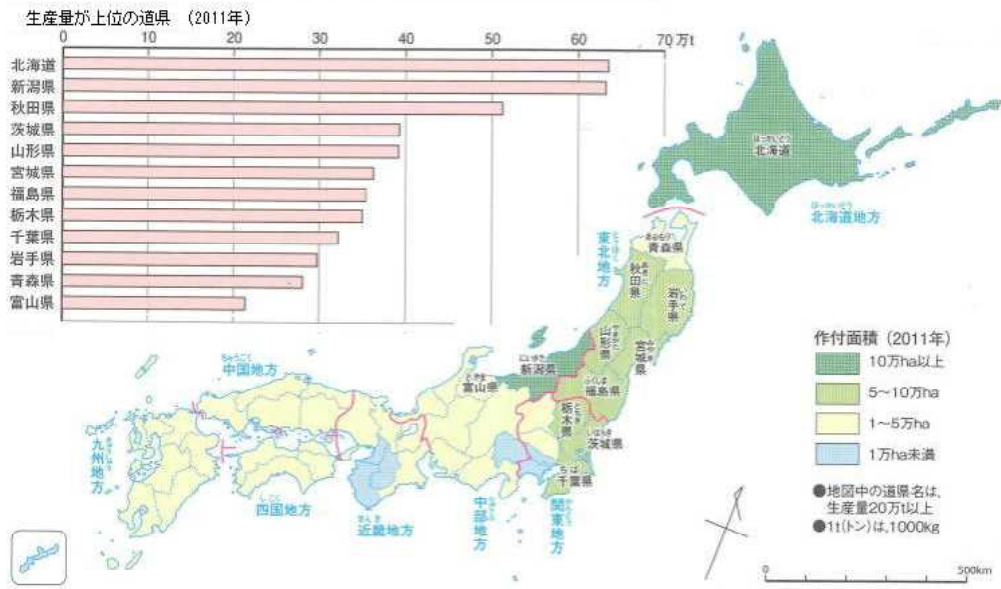
名前

(H 28 鹿児島学習定着度問題から)

1 日本の食料生産について、各問いに答えましょう。

(資料1) 米の生産量と生産地

[2013年 農林水産省調べ]




(1) 資料1について述べた次の文中の①, ②にあてはまる言葉を の中に書きましょう。

資料1を見ると、米は全国各地で作られていることがわかります。地方別に米の生産量をみると、(①) 地方が最も多いことがわかります。生産量が60万t以上の都道府県は、北海道と(②) 県です。

① 地方 ② 県

(2) 次のA~Cは、米作りの作業を表した写真です。それぞれの機械が行っている作業は何ですか。また、どの順番で作業を行いますか。の中に、作業内容を下のア~ウから一つずつ選び、その記号を、また、作業の順番を1~3の数字で書きましょう。



(作業内容)
ア ^{いね} 稲かり
イ 田植え
ウ 田おこし・しろかき

写真	A	B	C
作業内容			
順番			



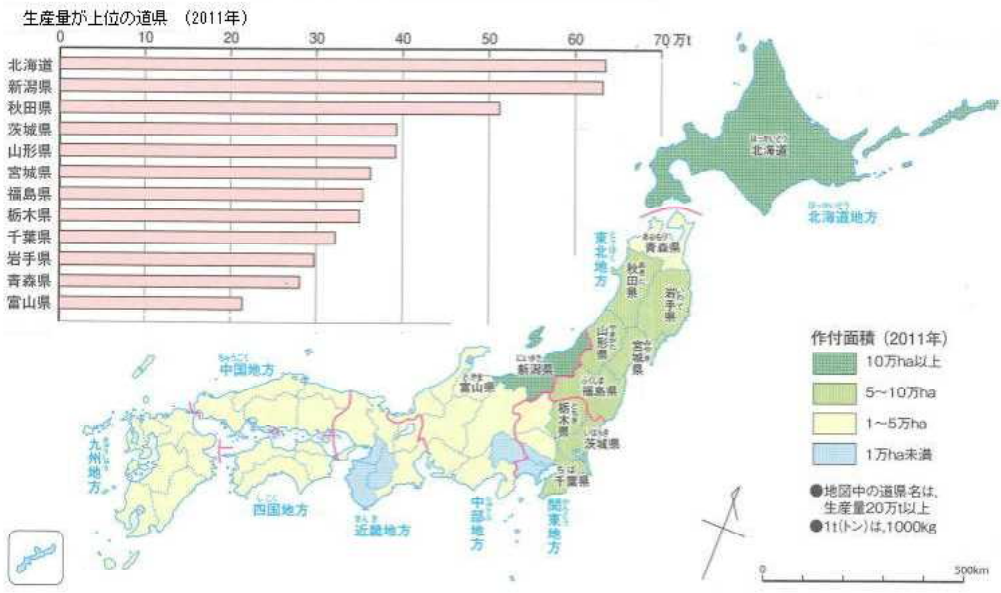
霧島市「今週の1問」
 小5社会 10月21日版
 進路・夢実現に向けて、この1問をクリア
 しよう!!

解答

(H 28 鹿児島学習定着度問題から)

① 日本の食料生産について、各問いに答えましょう。

(資料1) 米の生産量と生産地 [2013年 農林水産省調べ]



(1) 資料1について述べた次の文中の①, ②にあてはまる言葉を の中に書きましょう。

資料1を見ると、米は全国各地で作られていることがわかります。地方別に米の生産量をみると、(①) 地方が最も多いことがわかります。生産量が 60 万 t 以上の都道府県は、北海道と (②) 県です。

① 地方

② 県

(2) 次のA~Cは、米作りの作業を表した写真です。それぞれの機械が行っている作業は何ですか。また、どの順番で作業を行いますか。 の中に、作業内容を下のア~ウから一つずつ選び、その記号を、また、作業の順番を1~3の数字で書きましょう。



- (作業内容)
- ア ^{いね} 稲かり
 - イ 田植え
 - ウ 田おこし・しろかき

写真	A	B	C
作業内容	イ	ウ	ア
順番	2	1	3