



霧島市「今週の1問」  
 小5社会 12月16日版  
 進路・夢実現に向けて、この1問をクリア  
 しよう !!

名前


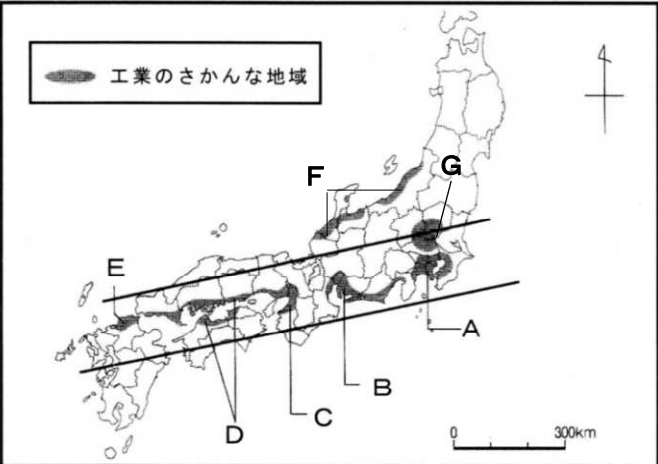
(H 29 鹿児島学習定着度問題から)

1 次は、晃さんたちが日本の工業について、資料をもとに話し合っているところです。これを読んで各問いに答えましょう

晃さん： 資料1から、日本には、工業がさかんな地域が全国各地にあることが分かるよ。  
 和さん： その中でも、Bの( ① )工業地帯は、工業生産額が最も高い工業地帯だよ。  
 晃さん： そうだね。②工業が盛んな地域の多くは、太平洋側の海沿いの地域に多く、帯のように広がっているよ。これは、どうしてなのかな。  
 裕さん： 工業製品や③その製品の輸送方法と関係があると思うよ。  
 晃さん： 例えば、原材料や燃料を船で運んだり、工場でする製品を船で出荷したりするのに便利だから、海沿いに工業地帯や工業地域が広がっていると思うよ。  
 和さん： でも、④Gの地域は、海沿いではなく、内陸部にあるよ。どうしてかな。  
 晃さん： Cさんの考えをもとに、資料2を見ながらみんなですらに話し合ってみよう。

(資料1) 日本の工業のさかんな地域

(資料2) 内陸部の工場生産されるICチップ



コンピュータや携帯電話などに使われており、中には1mm以下の大きさのものもある。多くの情報を処理できる。

(1) 文中の( ① )の工業地帯の名前を、の中に書きましょう。

工業地帯

(2) 下線②について、資料1の            で示した、工業地帯や工業地域が広がっている地域を、何と言いますか。の中に書きましょう。

(3) 下線④について、Gの地域のように工業がさかんな地域が内陸部にある理由を、資料2や裕さんの考えをもとに、下のの中に書きましょう。



霧島市「今週の1問」  
小5社会 12月16日版  
進路・夢実現に向けて、この1問をクリア  
しよう !!

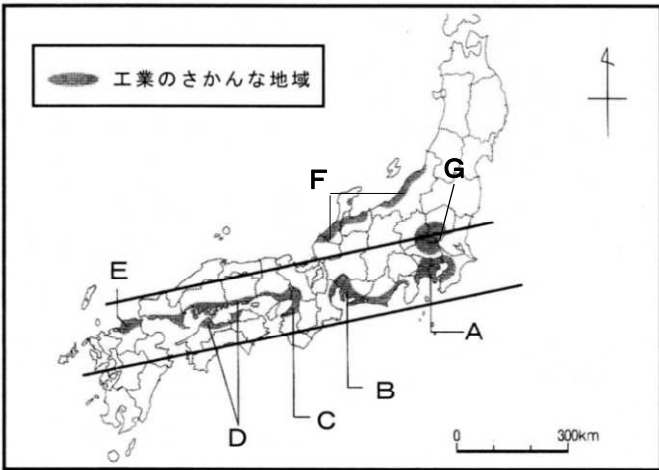
**解答**

(H 29 鹿児島学習定着度問題から)


① 次は、晃さんたちが日本の工業について、資料をもとに話し合っているところです。これを読んで各問いに答えましょう

晃さん： 資料1から、日本には、工業がさかんな地域が全国各地にあることが分かるよ。  
和さん： その中でも、Bの(①)工業地帯は、工業生産額が最も高い工業地帯だよ。  
晃さん： そうだね。②工業が盛んな地域の多くは、太平洋側の海沿いの地域に多く、帯のように広がっているよ。これは、どうしてなのかな。  
裕さん： 工業製品や③その製品の輸送方法と関係があると思うよ。  
晃さん： 例えば、原材料や燃料を船で運んだり、工場ですでた製品を船で出荷したりするのに便利だから、海沿いに工業地帯や工業地域が広がっていると思うよ。  
和さん： でも、④Gの地域は、海沿いではなく、内陸部にあるよ。どうしてかな。  
晃さん： Cさんの考えをもとに、資料2を見ながらみんなでさらに話し合ってみよう。

(資料1) 日本の工業のさかんな地域



(資料2) 内陸部の工場生産されるICチップ



コンピュータや携帯電話などに使われており、中には1mm以下の大きさのものもある。多くの情報を処理できる。

(1) 文中の(①)の工業地帯の名前を、の中に書きましょう。

**中京 工業地帯**

(2) 下線②について、資料1の 帯 で示した、工業地帯や工業地域が広がっている地域を、何と言いますか。の中に書きましょう。

**太平洋ベルト**

(3) 下線④について、Gの地域のように工業がさかんな地域が内陸部にある理由を、資料2や裕さんの考えをもとに、下のの中に書きましょう。

内陸部は海に接していないので船で大量に運ぶことはできないが、資料2のICチップは小さいので、トラックを使って高速道路で運んだり、飛行機に積んで大量に運んだりすることができる。また、ICチップは高い価格で売れるので、高速道路や飛行機の高い輸送費を支払っても、十分利益を得ることができるから。