



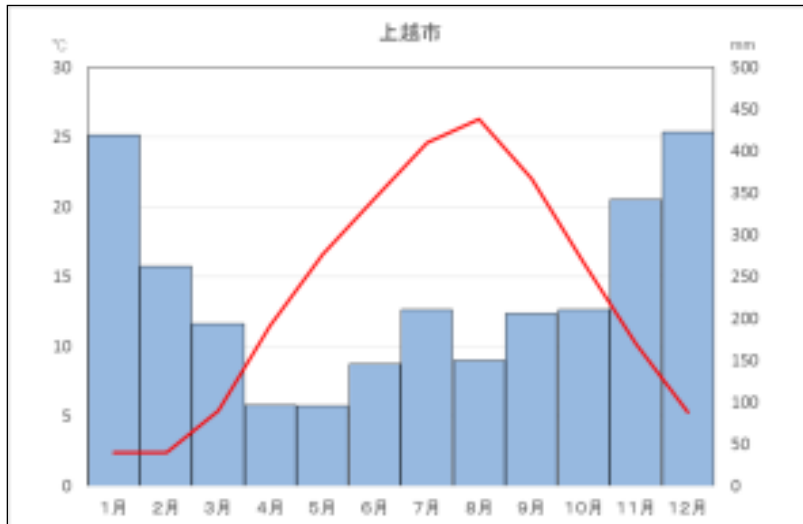
霧島市「今週の1問」
小5社会 9月14日版
進路・夢実現に向けて、この1問をクリア
しよう！

名前

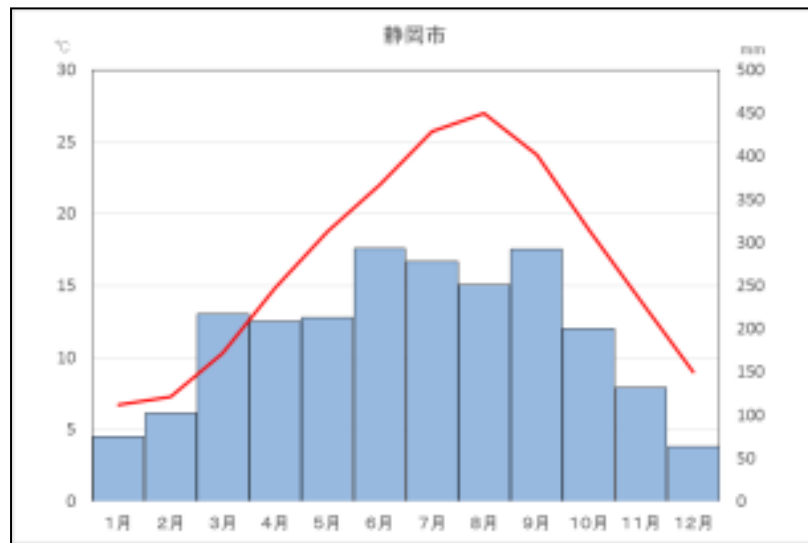
(鹿児島学力向上 Web システム 5年問題)

- 1 資料1・2は、日本海側の新潟県上越市と太平洋側の静岡県静岡市の月別平均気温と降水量を示したグラフです。2つの地域を比べて、①気候についてどんなちがいはありますか、また、②そのようなちがいが見られる理由はどうしてですか。①と②が分かる説明を の中に書きましょう。

(資料1)



(資料2)





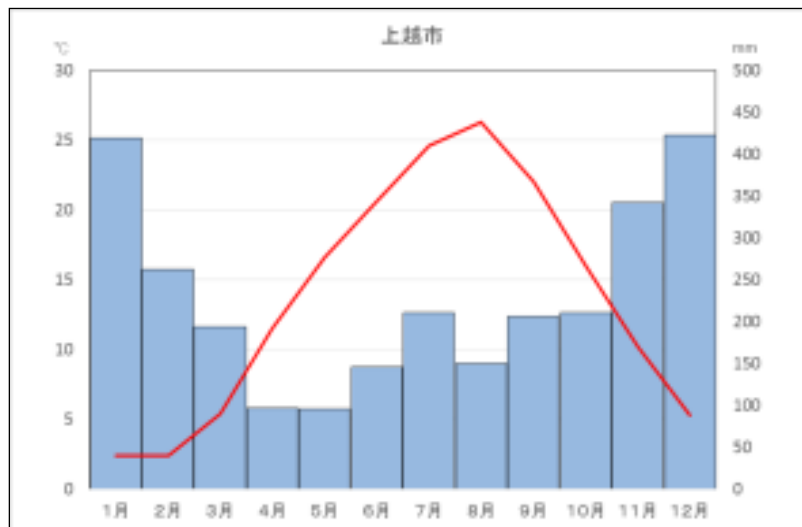
霧島市「今週の1問」
小5社会 9月14日版
進路・夢実現に向けて、この1問をクリア
しよう！

解 答

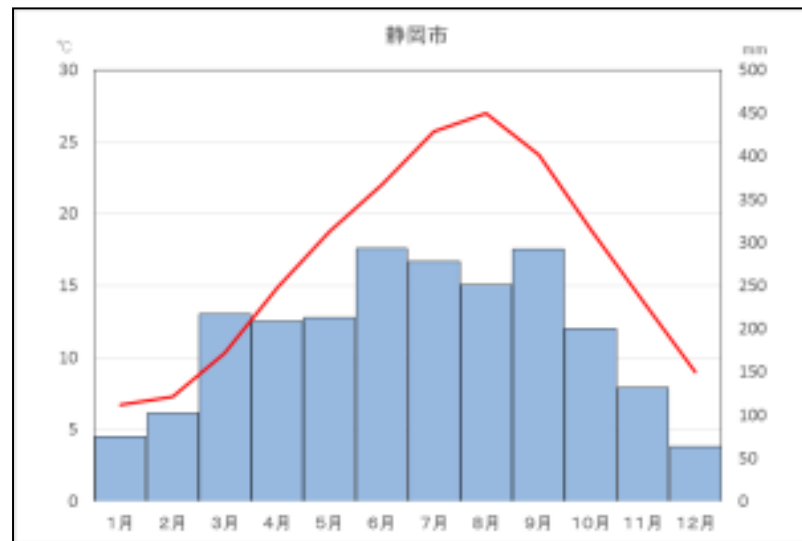
(鹿児島学力向上 Web システム 5年問題)

- 1 資料1・2は、日本海側の新潟県上越市と太平洋側の静岡県静岡市の月別平均気温と降水量を示したグラフです。2つの地域を比べて、①気候についてどんなちがひがありますか、また、②そのようなちがひが見られる理由はどうしてですか。①と②が分かる説明を の中に書きましょう。

(資料1)



(資料2)



(例) 上越市と静岡市では季節によって降水量にちがひが見られる。理由は、冬は季節風が日本海側から吹き、山地にぶつかって雪などを降らせ、上越市などの日本海側の降水量が多くなり、夏は逆に太平洋側から吹くので、静岡市などの太平洋側の降水量が多くなるからである。