



進路・夢実現に向けて、この1問をクリアしよう!!

霧島市「今週の1問」

10 月 3 日版

学年

教科

6

理科

名前

学びのポイント


メダカのたまごと体のつくりについて考えよう。

太郎さんと正子さんは、教室で飼っているメダカについて調べました。

1 太郎さんが、メダカのからだのつくりを説明しています。

メダカのめすとおすは、からだの形で見分けることができます。図のメダカは (①) に切れこみがなくて、(②) の後ろが短く、はらがふくれているから (③) だと考えます。

図



①、②、③には、どのような言葉が入るでしょうか。①～③にあてはまるものをそれぞれ1つずつ選び、記号を に書きましょう。

- ①：ア しりびれ イ せびれ ウ おびれ
 ②：ア しりびれ イ せびれ ウ おびれ
 ③：ア おす イ めす

①

②

③

2 正子さんは、水草についたたまごについて、下のようにとまとめました。() に入る言葉を書きましょう。

- ・ めすがうんだたまごが、おすが出した精子と結びつくと、生命がたんじょうして、たまごは成長を始めます。
- ・ たまごと精子が結びつくことを () といい、そのたまごのことを () といいます。

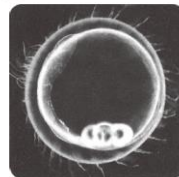
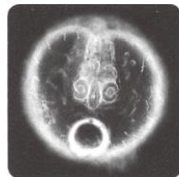
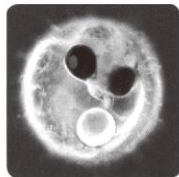
3 正子さんが、数日間、たまごの観察を続けていると、中のようすが変化してきました。メダカのたまごは、どのような順に変化したのでしょうか。アを1番目としてならべかえたとき、次のイ～エで一番最後(4番目になるもの)の記号を に書きましょう。

ア

イ

ウ

エ



1 番目

振り返り

※分かったこと、できるようになったこと、分からなかったこと、困っていること。